


## 房山区 2022-2023 学年度第一学期诊断性评价

## 高二历史

## 第一部分

本部分共 15 题，每题 3 分，共 45 分。在每题列出的四个选项中，选出最符合题目要求的一项。

1. 下图为出土于湖南龙山县里耶古城遗址的一枚木方，上面的文字字体是当时诏令使用的篆字，其牍文内容摘录如下：“王室曰县官”“公室曰县官”“郡邦尉为郡尉”“邦司马为郡司马”“毋曰邦门曰都门”“王游曰皇帝游”“王猎曰皇帝猎”。据此分析可知秦朝



里耶秦简 8-461 号“书同文字”木方

- ①首创篆体，推动各地的文化交流  
②突出皇帝独尊  
③建立邮传为中心的文书传送系统  
④强化中央集权
- A. ①②                      B. ①③                      C. ②④                      D. ③④
2. 唐朝中期以后，土地买卖和兼并之风盛行，政府的财政收入与徭役来源日益枯竭。为解决危机，唐朝政府改革征税制度，不以户籍及其登记内容而以土地和财产的多寡为征税依据。这一变化的影响是
- A. 赋税征收的形式转向以货币为主                      B. 限制了农业生产的规模  
C. 政府对农民的人身控制逐渐松弛                      D. 标志人头税正式被废除

3. 宋朝苏洵在《嘉祐集》中说“夫有官必有课，有课必有赏罚。有官而无课，是无官也；有课而无赏罚，是无课也。”他强调的是

A. 官员选拔依据考试成绩  
B. 对官员进行严密的监察  
C. 削弱官员权力加强皇权  
D. 对官员要有考核和奖惩

4. 右图的碑文记述了一百一十户农民集体迁往河南卫辉府汲县双兰池村居住生产的史事，刻有一百一十户农民及里长、甲首的姓名。此碑文是研究明朝



明洪武河南卫辉府汲县迁民碑

①移民情况的可靠史料  
②十家牌法的实物史料  
③里甲制度的文献史料  
④社会救济的图像史料

A. ①②  
B. ①③  
C. ②④  
D. ③④

5. 清朝乡约宣讲康熙帝“圣谕十六条”，其中的内容有：“敦孝弟以重人伦，笃宗族以昭雍睦，和乡党以息争讼，重农桑以足衣食……黜异端以崇正学，讲法律以儆愚顽，明礼让以厚风俗，务本业以定民志，训子弟以禁非为。”宣讲时也常常引用《大清律例》。材料反映清朝乡约的特点是

A. 约律融合  
B. 以经注律  
C. 引礼入法  
D. 礼法之争

6. “盖自关税协定制度成立以来，以进口税率之低，外国纷纷以其过剩制品输入我国而莫之能御，因以造成外商垄断之势力。同时以出口税之不能免除，致应奖励对外贸易之物品，亦不能免税，此出口贸易之不能发达也。”下列对材料解释正确的是

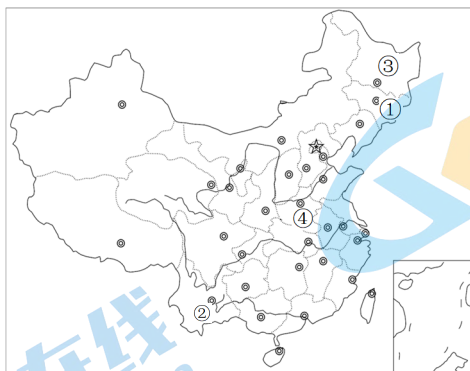
①中国的关税自主权遭到破坏  
②关税协定便利列强对华经济侵略  
③中国民族工业发展受到限制  
④外国商品可以免除关税进入中国

A. ①②③  
B. ①②④  
C. ①③④  
D. ②③④

7. 颜炳罡在《戊戌变法与中国现代化进程》中说：“戊戌变法倡导博爱、平等、自由、人权。这些思想观念并没有因戊戌变法失败而消失其影响，相反，更加深入人心，构成了中国现代化的逻辑起点。”材料说明戊戌变法
- A. 建立起了资产阶级民主共和政体
- B. 推动了我国开始工业近代化探索
- C. 标志中国人民的第一次全面觉醒
- D. 在社会上起到了思想启蒙的作用
8. 历史解释注重历史事件之间的联系。北洋政府时期的文官制度与南京国民政府时期的近代公务员制度二者之间存在的关系是
- A. 现象与本质
- B. 动机与效果
- C. 继承与发展
- D. 偶然与必然
9. 下列对《1950—1957 年中国进出口贸易总额统计简表（单位：亿元）》中数据解释合理的是

时间	1950 年	1952 年	1953 年	1954 年	1955 年	1956 年	1957 年
进出口贸易总额合计	41.54	64.61	80.92	84.72	109.80	108.65	104.50
苏联及人民民主国家	13.94	52.50	62.44	69.39	90.16	81.60	77.00
苏联	12.86	40.44	47.82	49.07	68.02	57.91	51.86
亚非及西方国家	27.60	12.11	18.48	15.33	19.64	27.05	27.50
西方国家	14.87	1.59	7.08	5.01	7.42	9.69	11.37

- A. 经济全球化推动了中外贸易总额持续快速增长
- B. 中外贸易总额受我国“一边倒”外交政策影响
- C. 中苏建交使得两国贸易发展始终处于上升趋势
- D. 中美关系正常化影响到西方国家与我国的贸易
10. 在我国社会主义建设的不同时期曾涌现出许多模范人物。下列人物及其事迹与地图中序号对应正确的是



- A. ①王进喜：石油工人，他在工作中艰苦奋斗，奋发图强，被称为“铁人”  
B. ②杨善洲：曾带领当地群众植树造林 20 多年，被授予“改革先锋”称号  
C. ③焦裕禄：曾任县委书记，亲民爱民，艰苦奋斗，被称为“党的好干部”  
D. ④黄大年：物理学家，取得许多重大科技成果，被追授“时代楷模”称号

11. 下列选项中，史实与结论相符的是

	史实	结论
A	雅典的公民大会由全体成年男性公民组成，是国家最高权力机关	雅典是希腊城邦国家中寡头政治的代表
B	罗马共和国的国家权力由执政官、元老院和公民大会掌握，执政官由全体公民选举产生	罗马共和国政体具有浓厚的民主政治特征
C	法国国王召开三级会议，三级会议支持国王，反对教皇，确立国王有权征税的原则	法国进入等级君主制阶段
D	英国的封建主迫使国王签署《大宪章》，肯定了国王的合法地位，保障封建主的特权	英国确立议会君主制

12. 欧洲民族国家形成经历了两个阶段。有学者认为：“专制王权是民族国家的早期形式，是近代社会的起步点。在这个阶段上，国家统一了，民族自立了，中世纪的混乱状况得以解除。民族国家的第二个阶段，“民族”与王权发生对抗，最终推翻专制王权。”

下列直接推动欧洲民族国家形成的历史事件有

- ①阿拉伯帝国建立    ②英法百年战争    ③宗教改革运动    ④法国大革命  
A. ①②③    B. ①②④    C. ①③④    D. ②③④



13. 1854 年，英国《关于建立常任文官制度的报告》中讲：“通过建立适当的考试系统，选拔能干的人才从事公共服务。成绩突出的公共服务人员可以得到晋升，能够胜任工作的人员可以得到最高奖励。”据此判断这份报告
- A. 为英国文官制度形成奠定了基础      B. 为君主立宪制确立提供法律保障  
C. 标志着英国文官制度的最终确立      D. 说明政党更替影响常务次官职位
14. 20 世纪的一份国际条约，第一次正式宣布缔约国在它们的相互关系中废弃以战争作为实行国家政策的工具，和平解决国际争端，否定了所谓“战争权”的合法性。这份国际条约在第二次世界大战后成为国际军事法庭审判德、日战犯的重要法律依据。该国际条约是
- A. 《战争与和平法》      B. 《威斯特伐利亚和约》  
C. 《非战公约》      D. 《联合国宪章》
15. 第二次世界大战后，西方一些政客和学者呼吁政府应该保障工人的“社会权利”，以最大限度地规避和降低工业化社会给经济运行带来的各种社会风险。瑞典、挪威、芬兰、丹麦、法国、德国、加拿大等都建成了“福利国家”，使人民群众的生活改善。但是，国家财政支出无法承担“普遍福利”，一些国家又实施减少福利的政策。对材料解读合理的是
- A. 社会经济发展与各种社会风险始终并存  
B. 资本家与工人阶级之间的矛盾更加激烈  
C. 社会稳定与经济发展之间的矛盾与协调  
D. 社会动荡使工业经济一直处于停滞状态

## 第二部分

本部分共 4 题，共 55 分。

### 16. (13 分) “羁縻”

#### 材料

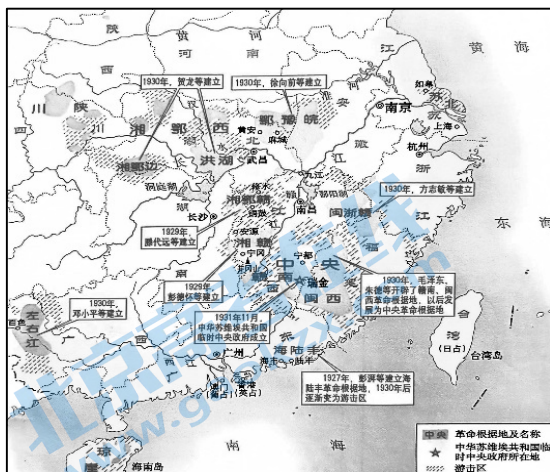
“盖闻天子之于夷狄也，其义羁縻勿绝而已。元狩二年（公元前 121 年），（霍去病）遂独遣浑邪王乘传先诣行在所（天子临时驻留地），尽将其众渡河，降者数万，号称十万。既至长安，居顷之，乃分徙降者边五郡故塞外，而皆在河南，因其故俗为属国。”“唐兴，初未暇于四夷，自太宗平突厥，西北诸蕃及蛮夷稍稍内属，即其部落列置州县。其大者为都督府，以其首领为都督、刺史，皆得世袭。虽贡赋版籍，多不上户部，然声教所暨，皆边州都督、都护所领，著于令式……大凡府州八百五十六，号为羁縻云。”“洪武七年，西南诸蛮夷朝贡，多因元官授之，稍与约束，定征徭差发之法……其府州县正贰属官，或土或流，（大率宣慰等司经历皆流官，府州县佐贰多流官）皆因其俗，使之附辑诸蛮，谨守疆土，修职贡，供征调，无相携贰，有相仇者，疏上听命于天子。”

(1) 依据材料，并结合所学，概括羁縻政策发展的主要阶段与每个阶段的内容。(9 分)

(2) 简述羁縻政策实施的历史作用。(4 分)

17. (14分)《宪法大纲》

材料一



《农村革命根据地的创建》(局部)

1927年9月至12月,全国先后有湖南汝城县、广东惠东县高潭区、广东海(陆)丰县、湖南茶陵县和广东的广州市建立了苏维埃政府;1930年9月,陇首乡(注:隶属于江西省上饶市玉山县)苏维埃政府成立;1931年7月26日,保定市阜平县苏维埃政府成立大会举行。

革命根据地及名称  
中华苏维埃共和国临时中央政府所在地  
游击区

材料二

二、苏维埃政权是属于工人,农民,红军兵士及一切劳苦民众的。

三、中华苏维埃共和国之最高政权为全国工农兵会议(苏维埃)的大会,在大会闭会的期间,全国苏维埃临时中央执行委员会为最高政权机关,中央执行委员会下组织人民委员会处理日常政务,发布一切法令和决议案。

四、在苏维埃政权领域一切劳苦民众和他们的家属,不分男女,种族,宗教,在苏维埃法律前一律平等,皆为苏维埃共和国的公民……苏维埃公民在十六岁以上皆享有苏维埃选举权和被选举权,直接选派代表参加各级工农兵会议(苏维埃)的大会,讨论和决定一切国家的地方的政治事务……为着只有无产阶级才能领导广大农民与劳苦群众走向社会主义。

——摘编自《中华苏维埃共和国宪法大纲》(简称《宪法大纲》)

(1) 阅读材料一,结合所学,分析《宪法大纲》制定的历史背景。(6分)

(2) 根据材料二,概述《宪法大纲》的主要内容,并结合所学说明其意义。(8分)

## 18. (14分) 世界货币体系

### 材料一

查理大帝时期，镑、先令和便士扩散到西欧大多数国家，也包括英格兰。1360年，法国开始铸造法郎硬币。18世纪初，英格兰和苏格兰合并后，英镑正式投入使用。北美独立战争期间，发行被称为大陆币的纸币，1792年，美国国会颁布法案，正式规定用“元”作为美国的货币单位，美元出现。1795年，法郎作为唯一的标准货币在法国流通。

### 材料二

借助第一次工业革命，19世纪50年代英国在世界工业生产和世界贸易中傲视列强，伦敦也逐渐成为全球生产中心和世界贸易中心。伴随着19世纪最后20年国际金本位制的确立，英国积累了大量黄金储备，英镑成为国际贸易最主要的结算货币和支付手段，伦敦的国际金融中心地位在一战前得以确立，成为全球第一大国际金融中心。

美国利用两次世界大战使经济实力一次又一次地飞跃，为纽约成为世界性的金融中心提供了坚实的物质基础……二战之后，美元通过布雷顿森林体系彻底击败英镑，成为货币霸主。美国利用政治手段和军事力量，在欧洲推行马歇尔计划，在亚非拉地区援助参战国恢复国内经济，纽约也将金融活动的触角伸向世界的各个角落。

(1) 依据材料一，指出西方国家货币演进的特点。(2分)

(2) 阅读材料二，结合所学，评析世界货币体系的变化。(12分)

(要求：观点明确，史论结合，逻辑清晰。)



## 19. (14分) “养老”

### 材料一

《孟子·梁惠王下》中说“老而无妻曰鰥，老而无夫曰寡，老而无子曰独，幼而无父曰孤。此四者，天下之穷民而无告者。文王发政施仁，必先斯四者。”

《后汉书·礼仪志》记载“年始七十者，授以玉杖，铺之糜粥。八十九十，礼有加赐。玉杖长九尺，端以鸠鸟为饰。”

《宋史》记载，宋神宗熙宁二年诏：“老幼贫疾无依丐者，听于四福田院额外给钱收养，至春稍暖则止……”崇宁初，蔡京当国，置居养院、安济坊。

### 材料二

1908年的免费养老金法是20世纪初英国建立社会保障制度的第一部重要立法。1925年英国颁布《寡妇、孤儿、老年人缴费养老金法》，完善1908年免费养老金法。20世纪30年代英国又颁布了一系列养老金法，健全养老金制度。

1901-1937年英国养老金制度实施情况统计简表				
年代	领取养老金的老年人数(千人)	养老金支出数(千英镑)	养老金制度覆盖率	养老金领取者年均领取额(英镑)
1901	518.378	6791.49	28%	13.1014
1918	762.209	6908.04	31%	9.06318
1922	858.497	12257.0	32%	14.2773
1930	2005.53	33082.6	62%	16.4957
1934	2324.89	42904.3	66%	18.4544
1937	2544.36	42950.7	68%	16.8807

### 材料三

人口老龄化是人类社会发展的客观趋势。“十三五”时期，在党和国家重大规划和政策引领下，我国在老龄政策法规体系与养老服务体系建设和多元社会保障与老龄产业发展等领域取得了重大成就。《“十四五”国家老龄事业发展和养老服务体系规划》中指出：“‘十四五’时期，我国开启全面建设社会主义现代化国家新征程。党中央把积极应对人口老龄化上升为国家战略，在《中华人民共和国国民经济和社会发展第十四个五年规划和 2035 年远景目标纲要》中作了专门部署。我国具备坚实的物质基础、充足的人力资本、历史悠久的孝道文化。同时也要看到，老龄事业和养老服务还存在发展不平衡不充分等问题。”

(1) 根据材料一，归纳中国古代政府的养老措施。阅读材料二，概括英国养老金制度实施的情况。(6 分)

(2) 综合上述材料，并结合所学，阐述材料三中《“十四五”国家老龄事业发展和养老服务体系规划》的进步性与实施的可能性。(8 分)

(要求：观点明确，史论结合，逻辑清晰。)

## 关于我们

北京高考在线创办于 2014 年，隶属于北京太星网络科技有限公司，是北京地区极具影响力的中学升学服务平台。主营业务涵盖：北京新高考、高中生涯规划、志愿填报、强基计划、综合评价招生和学科竞赛等。

北京高考在线旗下拥有网站门户、微信公众平台等全媒体矩阵生态平台。平台活跃用户 40W+，网站年度流量数千万量级。用户群体立足于北京，辐射全国 31 省市。

北京高考在线平台一直秉承 “精益求精、专业严谨” 的建设理念，不断探索 “K12 教育+互联网+大数据” 的运营模式，尝试基于大数据理论为广大中学和家长提供新鲜的高考资讯、专业的高考政策解读、科学的升学规划等，为广大高校、中学和教科研单位提供 “衔接和桥梁纽带” 作用。

平台自创办以来，为众多重点大学发现和推荐优秀生源，和北京近百所中学达成合作关系，累计举办线上线下升学公益讲座数百场，帮助数十万考生顺利通过考入理想大学，在家长、考生、中学和社会各界具有广泛的口碑影响力

未来，北京高考在线平台将立足于北京新高考改革，基于对北京高考政策研究及北京高校资源优势，更好的服务全国高中家长和学生。



微信搜一搜

北京高考资讯