

北京市朝阳区高三年级第二次综合练习

文科综合能力测试

2017.5

(考试时间 150 分钟 满分 300 分)

第一部分 (选择题, 满分 140 分)

本部分共 35 小题, 每小题 4 分, 共 140 分。在每小题列出的四个选项中, 选出最符合题目要求的一项。

降水距平百分率反映了某一时段降水与同期平均状态的偏离程度, 图 1 为 2016 年我国年降水量距平百分率分布图(单位: %)。读图, 回答第 1、2 题。

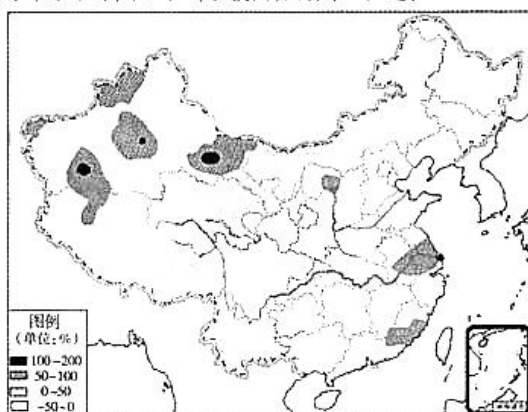


图 1

1. 2016 年降水量

- A. 西北多, 西南少
- B. 全国大部分地区较常年偏多
- C. 海河流域较常年偏少
- D. 甘肃省较常年南北差异增大

2. 2016 年的降水变化导致

- A. 大气中的水汽含量普遍减少
- B. 大气的不稳定性明显增强
- C. 华北地区城市内涝得以缓解
- D. 长江中下游地区汛情严重

在光照充足、水温约为 $20-30^{\circ}\text{C}$ 的温暖、洁净海域, 珊瑚的造礁作用旺盛。图 2 示意达尔文提出的珊瑚礁由岸礁—堡礁—环礁的形成过程。据此, 回答第 3、4 题。

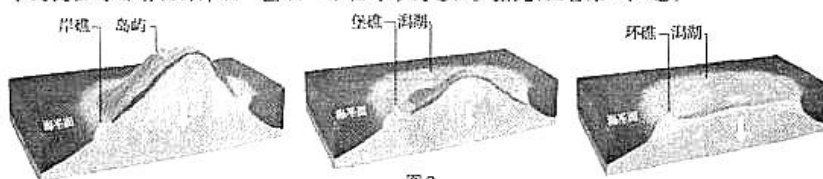


图 2

3. 图中
- A. 岛屿因外力侵蚀低至海面以下
 - B. 珊瑚礁因堆积作用体积逐渐扩大
 - C. 潟湖中储存了丰富的淡水资源
 - D. 珊瑚礁会加速海浪对岛屿的侵蚀
4. 最可能有珊瑚礁集中分布的是
- A. 濒临欧洲西部的海域
 - B. 暖流经过的大陆坡海域
 - C. 热带大陆架海域
 - D. 温带河流入海口海域

读图3,回答第5,6题。

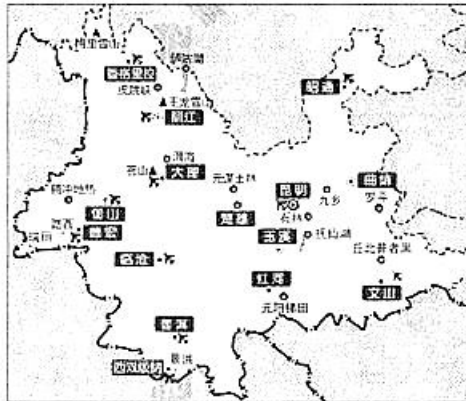


图3

5. 图示省区
- A. 位于我国的地势第一级阶梯
 - B. 与藏、川、贵、粤等省区相邻
 - C. 为蒙古族自治区
 - D. 境内河流径流量季节变化大
6. 图中机场
- A. 建设对技术要求低,施工难度小
 - B. 服务范围丽江机场最大
 - C. 数量众多反映当地经济发达
 - D. 位置受旅游资源分布影响
7. 家住北京的李先生准备在小区停车场租一个车位,停车场位置及车位分布如图4所示。为避免夏天汽车被长时间日晒,李先生选择的车位最好位于

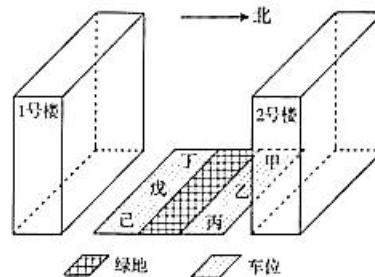


图4

- A. 甲区域
- B. 乙区域
- C. 戊区域
- D. 己区域

图5为我国某地区景观图。读图,回答第8、9题。



图5

8. 图示地区
- A. 位于我国西南山区
 - B. 以流水堆积地貌为主
 - C. 春季降水少不利于种植业生产
 - D. 主要运输方式为内河航运
9. 图示聚落中
- A. 农田临近河流以方便灌溉
 - B. 农田接近坡地中部以方便耕作
 - C. 民居远离山坡以利于修建
 - D. 民居靠近坡地上部可避免滑坡
- “城归”类似于“海归”,是指从城里返回乡下的创业人员。四川的小王返乡后开设了网店,专门销售家乡的应季农产品。回答第10、11题。
10. 网店销售应季农产品
- A. 减弱地域限制,利于扩大市场
 - B. 资金投入大,周转缓慢
 - C. 利用水路—铁路联运,可送货上门
 - D. 对交通、劳动力的依赖减弱
11. “城归”的出现有利于
- A. 提高城市环境承载力
 - B. 缩小城乡间经济差距
 - C. 缓解城市人口老龄化、交通拥堵等问题
 - D. 促使农村的经济发展水平超过城市
12. 历史上遗留下来的许多实物是重要的史料。右侧器物可以佐证的是
- A. 中央集权制度正式确立
 - B. 国家大一统局面的实现
 - C. 第一个国家政权的诞生
 - D. 周天子天下共主的地位

何尊：成王时期（约公元前11世纪）何姓贵族所制。尊内底铸有122字铭文，其中“宅兹中国”是“中国”一词最早的文字记载。


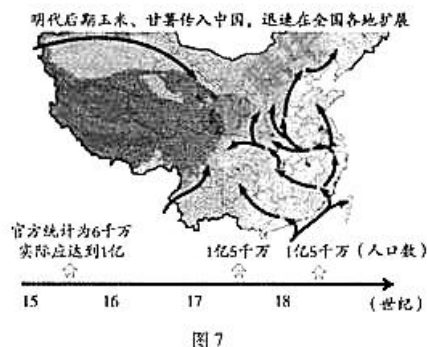


图6

13. 唐僖宗时,《左拾遗》侯昌业上疏:“上不亲政事,专务游戏,赏赐无度,田令孜专权无上,天文变异,社稷将危,上疏极谏”。上大怒,召昌业至内侍省,赐死。由此推断
- A. 引导式劝谏有助于民主政治
B. 尊天道施仁政的理念消亡
C. 左拾遗职责是内侍皇帝起居
D. 该官隶属于谏诤监察机构

14. 就图7所提供的信息,某校学生提出的相关研讨主题比较恰当的是

- A. 湖广地区农田垦殖与经济重心南移
B. 高产作物与明清之际人口持续增长
C. 农作物结构变化与土地利用率提升
D. 地理大发现与农耕文明遭遇的冲击



15. 1784年2月22日,持有国会授予海上通行证的船长格林,率领着“中国皇后”号离开了纽约港,目的地是中国广州。

“‘中国皇后’号荣幸地升起了在这海域从未有人升起或看见过的第一面美国国旗!这一天是1784年8月28日”。结合所学判断,下列选项正确的是

- A. 打破了中国闭关锁国的状态
B. 总理衙门负责相关接待事务
C. 新生的美国刚赢得完全独立
D. 该船出行得到联邦政府允许

16. “19世纪时的中国天文学担负着‘乃命羲和,钦若昊天,历象日月星辰,敬授民时’的社稷重担。欧洲人惊呼:天文学家——这在我们有高度教养的西方人的眼中是种最无用的小人,在东方国度竟被放在部长和国务卿一级的职位上,这该是多么可怕的野蛮”。结合所学判断,下列选项正确的有

- ①中国古代天文学以天象观测为依据注重历法推算
②中国天文学服务于政事、农事具有鲜明的实用性
③地球中心说在当时的欧洲仍然占据绝对统治地位
④19世纪西方天文学体系独立,学者多为修士祭司

- A. ①②
B. ①③
C. ②④
D. ③④

17. 1844年,道光帝谕令各省督抚:“除现在开采外,如尚有他矿愿开采者,准照现开各厂一律办理”。1849年议定《云南矿厂章程》四条,由是“一时矿禁大弛”。上述材料可以表明这一时期

- A. 鸦片战争后政府重视矿藏开采
B. 开矿筹饷以镇压太平天国起义
C. 鼓励兴办洋务以实现自强求富
D. 放宽限制促进近代工矿业发展

18. 1948 年 12 月人民解放军第四十二军(原东北野战军第五纵队)陆续接到指令:“隔而不围”“围而不打”“打谈结合、以打促和”,如雷必打,则以步枪、刺刀和手榴弹,展开近战和肉搏、不得炮击……此战是在夺取
- A. 锦州 B. 北平 C. 徐州 D. 南京
19. 到 1958 年 8 月底,河南遂平县 10 个基层公社创办了各种“大学”570 多所,学员达到 10 万多人,基本上做到了每个社员都上大学;河南登封县在两天之内建起了 44 所“大学”;某师范大学一个文学班 26 人苦战四昼夜,读了 290 部中外名著。教育领域出现这些现象的原因是
- A. 全国工农教育会议提出“开展识字教育逐步减少文盲”
B. “双百方针”促使文化教育领域呈现出生机勃勃的景象
C. 在当时的整体形势下,在文化教育领域出现的冒进倾向
D. 加紧普及义务教育成为“科教兴国”战略的重要环节
20. 1500 年前后,欧亚大陆区域间的奢侈品贩运,被来自海洋的必需品的大规模贸易所替代。欧洲的商业城市、贸易中心也在逐渐发生着转变。对这一转变下列排序准确的是

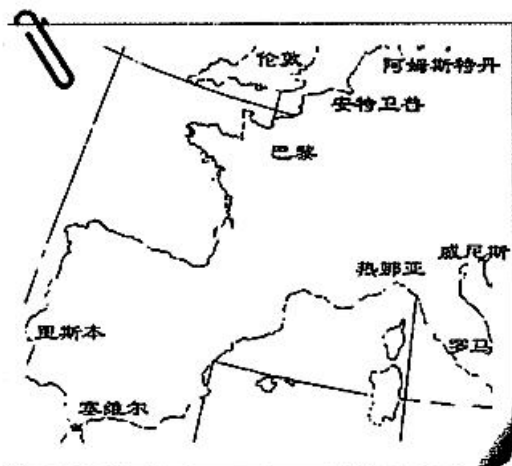


图 8

- A. 威尼斯——里斯本——安特卫普——巴黎
B. 威尼斯——塞维尔——阿姆斯特丹——伦敦
C. 热那亚——安特卫普——里斯本——伦敦
D. 热那亚——伦敦——阿姆斯特丹——纽约

21. 在欧洲,确立民族国家管理宗教事务的新原则,从而维护国家体制完整性的进程开始于
- A. 雅典民众法庭的创设 B. 罗马设立平民保民官
- C. 德意志马丁·路德改革 D. 法兰西掀起启蒙运动
22. 图9是19世纪末流行于欧洲的一幅漫画。根据所学知识,对其理解准确的是



图9

全世界的无产者站在岸边,在马克思的指引下,准备登上标志着他们的要求的船。

- A. 马克思领导着第一国际 B. 马克思主义是思想主流
- C. 无产阶级要求暴力夺权 D. 工人运动推动社会改革

1940 年代	晶体管催生了改良型助听器和袖珍收音机,预示着信息时代的来临
50—70 年代	第一座商业核电站诞生后的 20 年间,共有 42 座核电站提供着美国约 4.5% 的电力供应
1957、1958 年	1957 年苏联发射了第一枚人造地球卫星,次年美国发射第一枚太空卫星
1961、1962 年	1961 年苏联宇航员尤里·加加林进行了环球飞行,次年美国派约翰·格伦进入太空轨道

23. 对上表信息理解准确的有

- ①便捷廉价的动力推动资本主义确立全球体系
- ②标志着对宏观宇宙和粒子世界认识的新突破
- ③二战及冷战时期的科技发明推动着社会进步
- ④太空领域是美苏争夺战略全局优势新制高点

- A. ①② B. ①③ C. ②④ D. ③④

24. 近年来,各地中学举行的成人礼,始于周代的冠(笄)之礼。对此,甲同学认为,成人礼应该回归古代已有的冠(笄)仪式,使传统文化得以传承;乙同学认为,作为一种教育方式,只要在内容上让学生感受到成人的责任就好,复古式的冠(笄)仪式没有价值。对此,以下说法正确的是



图 10

- ①甲的合理性在于认识到传统礼仪是民族精神的结晶
②乙的不足之处在于忽视了传统礼仪文化的时代价值
③成人礼仪式演变是社会进步的突出表现和主要标志
④中华传统礼仪文化需要因时而变,并注入时代精神
- A. ①③ B. ①④ C. ②③ D. ②④
25. 近日,“2017 北京惠民文化消费电子券”(简称“文惠券”)正式发放。“文惠券”作为文化惠民的重要项目,由补贴文化生产经营单位转向补贴居民文化消费,即由政府财政直接对消费者在戏剧欣赏、图书音像等七大领域的文化消费进行现金补贴,让消费者直接享受到实惠。由此可见
- ①深化文化体制改革将对文化产业发展产生影响
②人们的基本文化权益随经济发展得到更好保障
③文化产业的发展让人们更方便的获得文化产品
④政府把发展文化事业作为文化建设的中心环节
- A. ①② B. ①③ C. ②④ D. ③④
26. 2016 年,世界首颗高速星地量子通信卫星由我国科学家率先研制成功。该卫星以我国古代哲学家墨家学派的创始人墨子名字命名,以纪念他最先发现光线沿直线传播。“墨子号”量子卫星的研制成功
- ①有助于提升我们的民族自尊心和自信心
②说明古代哲学和自然科学没有本质区别
③表明我国古代哲学是现代量子学的理论基础
④说明作为认识基础的实践活动是不断发展的
- A. ①② B. ①④ C. ②③ D. ③④

高三文科综合 第 7 页(共 16 页)

27. “羽毛跨越性别、年龄和文化,每片脱落的羽毛背后,都讲述着鸟儿成长的故事。每一次的蜕变,都是温暖、成长、转化的过程”。一位艺术家用从动物园以及私人鸟舍收集而来的各种美丽的羽毛,进行了一系列充满创意的创作,雕琢出了一幅幅生动而有趣的作品(见图11)。这表明




图 11

- A. 艺术创作离不开艺术家的生活感悟和丰富情感
B. 艺术家丰富的想象力对艺术创作起决定性作用
C. 艺术家的价值判断是在价值选择的基础上形成的
D. 创新意识是艺术家认识和利用事物间联系的前提
28. 设立雄安新区,是深入推进京津冀协同发展做出的一项重大决策部署。规划建设雄安新区,对于集中疏解北京非首都功能,探索人口经济密集地区开发新模式,调整优化京津冀城市布局 and 空间结构,培育创新驱动发展新引擎,具有重大现实和深远历史意义。这一重大战略部署体现了
- ①坚持量变和质变的统一,快速建设发展雄安新区
②要坚持系统优化的方法,把京津冀联系起来发展
③坚持共性和个性的结合,探索城市发展的新模式
④要重视外因的决定作用,京津要支持新区的发展
- A. ①② B. ①④ C. ②③ D. ③④

29. 家用旅行车越来越多地走进百姓家庭。某品牌家用旅行车的供求曲线变化如右图所示(D代表需求曲线,S代表供给曲线)。不考虑价格等其他条件,下列直接影响图12中供给曲线变化的可能因素是

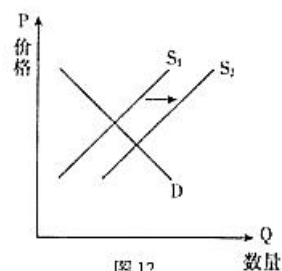


图 12

- A. 物流成本增加导致钢材价格上升
B. 股市上涨增加了人们的投资理财收入
C. 国家全面二孩政策的实施致使孩子出生数量增加
D. 工程师开发出用于家用旅行车生产的新的自动化机器

30. 如今消费者的消费意向已经和网站上的评价密不可分。王同学网购了几本复习用书,到货后发现质量不太令人满意,于是她给了差评。后来,商家多次电话联系她,并提出优惠条件:如果删除差评,则返还购书费用;如果给出好评,则再另赠送一本新书。针对此种情况,你认为以下说法正确的是

①应根据商品和服务的质量作出客观公正的评价
②若商家确实改进了商品质量,就必须删除差评
③消费评价应该考虑并处理好人们之间的关系
④消费评价只需要考虑消费者本人和商家的利益

A. ①② B. ①③ C. ②④ D. ③④

31. 2017 年 1 月 10 日,我国某钢铁集团有限公司宣布,该公司已具备圆珠笔笔头“笔尖钢”的批量生产能力,未来两年将有望占据国内市场,替代进口。“硬币钢”、“电工钢”、“耐候钢”、“笔尖钢”的陆续问世,为去产能背景下的钢铁行业乃至“中国制造”升级大大提了气,这表明

A. 中国制造的“圆珠笔头”将占据国际市场
B. 中国制造在核心技术方面不断地取得突破
C. 我国钢铁行业在去产能方面取得明显成效
D. 自主创新将会有效缓解钢铁产业库存压力

观点一:如果财政部把用过的瓶子塞满钞票,而把塞满钞票的瓶子放在已开采过的矿井中,再用城市垃圾把矿井填平,然后听任私有企业根据自由放任的原则把钞票再挖掘出来,这将有利于解决失业问题,而且受此影响,社会财富也会增加。

观点二:自有文字记载以来,人们追求自我利益的本性从未改变。正是由于这种追逐本性,百姓日常所需物品的价格提高,市场上的供给会随之增加,价格下降,供给会随之减少。这样,农民、手工业者、商人和管理人员可以各守其业,尽其能,得所欲。

32. 某高中生在阅读上面两段资料时,作出如下读书笔记。从经济学角度看,其中合理的是

①他们都主张应该尊重市场规律,限制政府的作用
②他们都认为市场具有通过分工进行资源优化配置的积极作用
③观点一主张通过扩大财政支出来增加投资,促进就业,实现经济增长
④观点二认为利己是人的本性,追求个人利益是人们从事经济活动的动力

A. ①② B. ①③ C. ②④ D. ③④

33. 为了促进水资源保护、水域岸线管理、水污染防治、水环境治理等工作,某地进行了“河长制”的探索,从多个层面提出了系统要求。

组织架构:“河长制”明确了地方党政主要领导对环境质量负总责的要求
目标责任:作为第一责任人,“河长”对所负责河道的水生态改善负领导责任
措施手段:各地要对辖区内“河长制”河道造册建档,有针对性地确定治污方案
责任追究:河道水质的考核得分是干部选拔任用的重要依据,对考核得分靠后,且所属河道水质恶化的责任人,严格实行“一票否决”

“河长制”成为治水行之有效的制度,是因为它

- ①最大程度整合了党委和政府的执行力,弥补了多头治水的不足
②克服了单一部门行政权限不够的限制,提高了行政管理的效能
③利于增强决策的透明度和公众参与度,使决策更好地反映民意
④通过对行政权力进行全面的制约监督,真正做到了权为民所用
- A. ①② B. ①④ C. ②③ D. ③④
34. 《中华人民共和国民事诉讼法总则》规定:处理民事关系,应当依照法律法规规定;法律法规没有规定的,可以适用习惯,但是不得违背公序良俗。下列表述与这一法治精神相一致的是
- A. 法不阿贵,刑过不避大臣,赏善不遗匹夫
B. 道之以政,齐之以刑,民免而无耻;道之以德,齐之以礼,有耻且格
C. 明礼义以化之,起法正以治之,重刑罚以禁之,使天下皆出于治,合于善也
D. 礼义以为纪,以正君臣,以笃父子,以睦兄弟,以和夫妇,以设制度,以立田里
35. 某高中生准备以“欧盟的一体化进程”为题的发言时,整理出下列文献资料。从政治学的角度看,资料中存在错误的是
- ①1967年,欧洲煤钢共同体、欧洲经济共同体和欧洲原子能共同体的主要机构合并,统称欧洲共同体,欧洲一体化进程加速发展
②1991年,欧共体首脑会议通过了《欧洲联盟条约》,欧共体演化为欧洲联盟,欧洲理事会是欧盟最高决策机构,拥有欧盟立法权,表明成员国向欧盟让渡了大量主权
③2016年,英国举行公投脱离欧盟,英国议会上院投票通过政府提交的“脱欧”法案,授权首相启动“脱欧”程序,这对欧盟的一体化进程产生巨大冲击
④中欧都主张国际关系民主化,倡导多边主义,主张加强联合国的作用,反对国际恐怖主义,主张消除贫困,保护环境,实现可持续发展。这为中欧关系的发展奠定坚实的基础
- A. ①② B. ①④ C. ②③ D. ③④

高三文科综合 第10页(共16页)

第二部分（非选择题 共 160 分）

36. (36 分)读图 13, 回答下列问题。

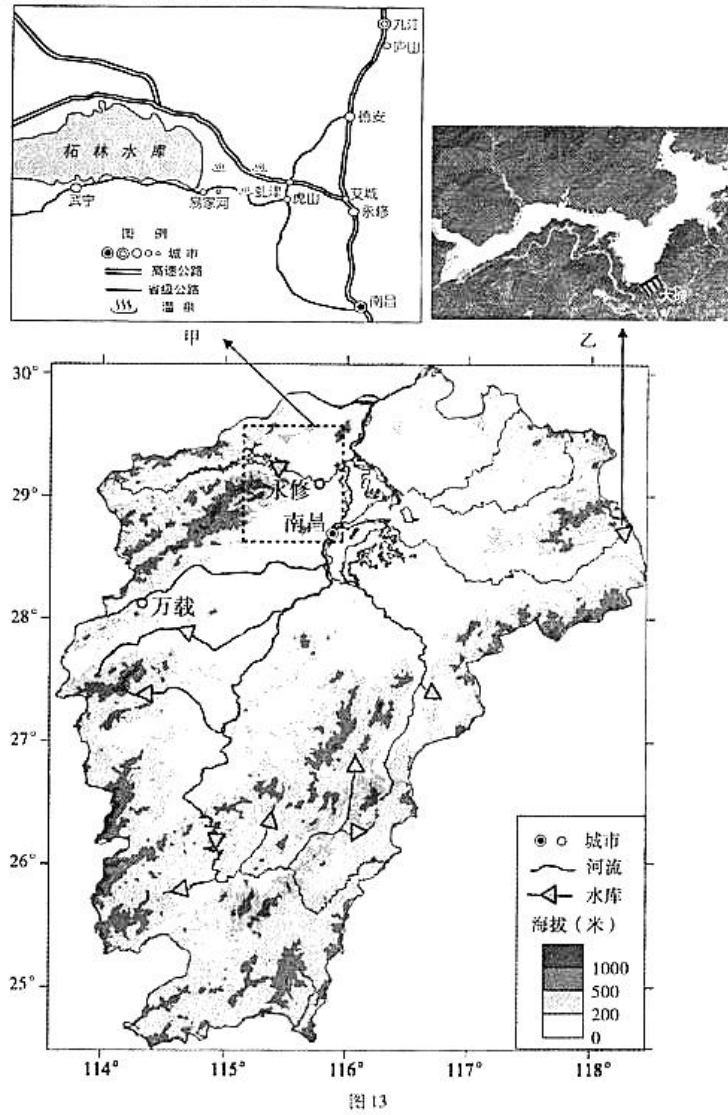


图 13
高三文科综合 第11页(共16页)

每年七、八月,南昌都会出现闷热、无风的极端天气,被传称为“中国火炉城市”之一。

(1)说明南昌市成为“火炉城市”的原因。(10分)

(2)概括江西省水库的分布特点,结合图 13-乙分析其修建水库的有利条件。(10分)

国家级有机农业示范园落户于宜春市万载县,园区充分发挥了农业技术的示范平台作用,种植的有机作物品质高,销往国内外各大消费市场。

(3)简述有机农业示范园落户万载县的原因。(8分)

永修县易家河村被称为“长寿村”,当地政府利用本地及周边资源,着力打造以乡野休闲、养生为主的乡村特色旅游。

(4)请为易家河村设计一段针对周边城市游客的广告宣传语。(8分)

37. (36分)《管子·地图》是中国最早的地图专篇,“举错知先后,不失地利,此地图之常也。”阅读下列材料,回答相关问题。

东西方地图的编绘和地图学的发展,明显地反映出地理环境的差异及生产生活的需求。古希腊学者托勒密编著地理学著作八卷,其中六卷都是用经纬度标明的地点位置表。多数的地点位置,是根据对本初子午线和平纬圈之间的距离计算出的。魏晋时期,中国的制图学家裴秀编制的《禹贡地域图》和《地形方丈图》中系统地总结出“制图六体”,为分率(比例尺)、准望(方向,用以确定地貌、地物彼此间的相互方位关系)、道里(距离)、高下(地势起伏)、方邪(倾斜角度)、迂直(实地高低起伏与图上距离的换算),这为中国后世的地图绘制奠定了科学基础。16世纪后的欧洲天主教积极向海外拓展,出现了基督教历史上继唐、元之后在中国传教的第三次浪潮。随后,在法国的地形图上、在中国的《大清一统舆图》上,东西方两个体系的制图要素同时出现了。

(1)依据材料,归纳古代东西方对绘图技术的贡献。结合所学知识,说明 16 世纪后在中、法地图上同时出现东西方两种要素的原因。(8分)

《海国图志》初刊于1842年，它一方面延续着中国传统的图志体例，是一部附有全新的世界各国地图的、五十卷本巨大篇幅的地志书，另一方面又摒弃了九洲八荒、天圆地方的旧观念，树立了“五大洲、四大洋”的新的世界史地观。1845年清朝官员叶氏绘制的《万国大地全图》“经度以京师为第一度”。1864年湖北官书局出版的《全国直省府厅州县图》，内容以康乾内府舆图为蓝本，以半官半民的形式出版，打破了纯官方编制、收藏地图的传统。1886年陈兆桐绘制《万国舆图》“原照英国舆图绘译，所有经纬，仍照原图以格林威治为中线”，书中的“五大洲各国大事表”，以民主、君民共主、君主将当时全球57个“自主”国家分为三类。近代中国第一次民间公开出版的地图是1903年武昌舆地学会出版的《中外舆地全图》。1906年由清朝学者周世棠、孙海环编辑《二十世纪中外大地图》，被称为民间刊行四大全国地图集之一。

——摘自陈潮《中国近现代地图出版概况》

(2) 依据材料，归纳近代中国地图绘制的特点。结合所学知识，分析影响近代中国地图发展演变的因素。(14分)

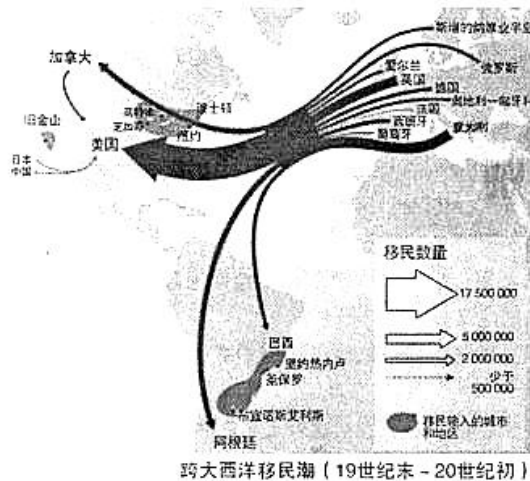


图14

伴随着分类和统计技术的进步，地图开始多角度地展现传统实力的各个要素。如人口地图、资源图、军备图等。上图是根据19世纪末到20世纪初跨大西洋移民潮所做的示意图。20世纪初和20世纪的30年代移民潮出现断断续续的现象。二战后出现了大规模到欧洲寻找工作的场景。到20世纪70年代，几乎所有西方国家都对外来移民关闭了大门，这种突然关门政策打断了传统的移民流动。

——[法]玛丽·弗朗索瓦·杜兰等《全球化地图》

(3) 依据图文材料并结合所学知识，对19世纪末以来的移民变化作出相关分析。

(14分)

38. (32 分)读万卷书,行万里路。某校高二(1)班学生来北京游学。阅读材料,回答问题。

同学们对这次游学盼望已久,满怀憧憬。但是从大家的言谈中,老师看出部分学生把这次活动误解成了一次常规的旅游,于是准备组织一次行前动员会。

【资料卡】

中小游学是由教育行政部门和学校有计划地组织安排,通过集体旅行、集中食宿方式开展的研究性学习和旅行体验相结合的校外教育活动,是学校教育和校外教育衔接的创新形式,是教育教学的重要内容,是综合实践育人的有效途径。

“游学”既不是单独的旅游也不是纯粹的研学,它介于游与学之间,同时又融合了游与学的内容。开展游学,有利于推动全面实施素质教育,创新人才培养模式。

(1)假如你是班级宣传委员,请向同学们发出两条文明游学的倡议。(2 分)并根据以上资料,运用《生活与哲学》相关知识,自拟题目,写一份行前动员发言稿,以帮助同学们正确认识这次游学的意义。(12 分)

要求:观点鲜明,知识运用准确、贴切,论述合乎逻辑,条理清晰,200 字左右。

按照游学计划,同学们参观了某文化创意产业园。在参观过程中,同学们感受到这些行业美好前景的同时,也了解到在研发资金来源、行业标准制定、知识产权保护、产品的安全隐患等方面面临的新情况、新问题。这些问题的解决离不开政府支持,需要政府不断提高为经济社会发展服务的水平。

(2)阅读材料,运用《政治生活》有关知识,给当地政府负责人写一份“关于如何提高政府工作水平和效率的建议书”。(12 分)

要求:观点鲜明,知识运用准确、贴切,论述合乎逻辑,条理清晰,150 字左右。

创新文化是一种培育创新的文化,这种文化能够唤起一种不可估计的能量、热情、主动性和责任感,来帮助企业达到一种更高的目标。

文化创意产业园能吸引众多的创业企业,是由于其独特的文化为创业企业提供了良好的“温度、湿度、土壤、植被”。比如,鼓励冒险、允许失败的创新文化为创意企业的成长提供了适宜的“土壤”。同学们在游学中做了如下的比较:

	传统区域	创意园区
文化环境	◎等级森严、僵化、保守、封闭 ◎鼓励稳定、自力更生,简单的复制	◎勇于进取和敢于冒险,依靠创新驱动 ◎创新和创业文化培育了充满活力的竞争力强的企业

(3)假如你的游学汇报主题是“文化创意产业的发展离不开创新文化”,请运用《文化生活》知识加以简要说明。(6 分)

39. (14分)数字经济就是指以使用数字化的知识和信息作为关键生产要素、以现代信息网络作为重要载体、以信息通信技术的有效使用作为效率提升和经济结构优化的重要推动力的一系列经济活动。

材料一：随着数字经济时代的到来，同学们对人工智能、数字家庭、网络金融等行业产生了浓厚兴趣，打算深入了解这些新兴行业发展和创新型企业的成长所需的内外条件，为未来自主创业做准备。

(1)运用所学《经济生活》相关知识，完成下表并说明理由。(8分)

所需条件	经济学理由
示例：土地高效使用	土地是稀缺的资源和生产要素，其价格影响行业和企业发展的成本与收益。
①	劳动者是生产过程的主体，教育通过提高劳动者的素质，促进劳动者就业，自主创业，改善生活，促进生产力提高和产业发展。
②相关产品的市场前景	
③	

材料二：数字经济在我们生活中已经无孔不入，吃饭、购物、出行、学习、娱乐，人们的日常活动几乎都离不开数字经济。学生对此展开讨论：

学生甲：我安装了北京实时公交车查询软件，只要输入公交线路名称、线路方向和站点名称，即可清晰地看到距离自己所在站点的公交车有几辆在路上、预计几点几分到达本站、目前距离本站多少公里等动态信息。

学生乙：我用手机从网上购买了路遥的《平凡世界》，过了一段时间，这个购书网站又给我推荐了《古典的中国》、《边城》等书籍及优惠价格信息，但我发现有些书籍与网上描述的不完全一致，并且网络退换货手续繁琐。

(2)任选以上一位同学的发言，谈谈如何看待数字经济带来的影响。(6分)

40. (18分)实体经济从来都是我国发展的根基，当前很多实体经济面临升级和转型。

实业救国论者大都十分重视对西方经济理论的介绍、探讨和运用，并注意从中国实际出发进行选择取舍。民国初期，随着政治、经济的发展，包括工商界在内的社会各界对政治改良与实业发展的关系有了更加明确的认识，这也是实业救国思潮获得发展的具体反映。振兴实业逐渐成为全社会各阶级各派别的人们共同的愿望，上自政府，下至庶民，都对发展实业十分关注，实业团体也如雨后春笋般出现，并广泛开展各项实业活动。

——摘自朱英著《中国近代史十五讲》

(1)依据上述材料，归纳民国初期实业救国思潮的特点。结合所学知识，说明这一时期实业救国思潮得到进一步发展的原因。(8分)

浙江义乌某吸管制造企业创建于1994年，通过薄利多销、不断扩大生产规模获利。近十年来，该企业逐渐放弃了低端加工，在产品研发、生产和销售上采取了一系列的改造措施。如今，该企业的产品特色鲜明，成为全球吸管行业第一品牌。

(2)列举该企业改造升级可能采取的主要措施。(10分)

41. (24 分)人类已经成为你中有我、我中有你的命运共同体,利益高度融合,彼此相互依存。
中缅石油管道于 2017 年 4 月正式运行。读图 15,回答第(1)题。

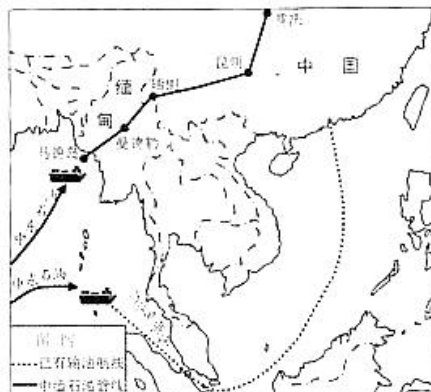


图 15

- (1)简述中缅石油管道的建设对中缅两国区域发展的影响。(10 分)

17 世纪末,印度的棉纺织品曾一度占据了全世界四分之一的相关贸易份额。至 19 世纪 50 年代,孟买的买办商人开始了印度工厂棉纺织业的历史。在这些工厂中,由印资开办或控制的占绝大多数。在英国的世界市场贸易霸权和枪炮推行的自由贸易政策的保护下,印棉得以大量出口中国。但孟买的工厂主们同时也要把价钱压到最低以抵御来自曼彻斯特的压力,才能得以保存它的一席之地。

——周敏《英国殖民统治与印度工业化的起步》

- (2)依据材料和所学知识,分析英国在印度工业化发展的过程中所扮演的角色。(8 分)

在当今时代背景下我国积极倡导构建人类命运共同体。

中华民族文化以仁爱、和谐、中庸作为核心价值,以博大包容的胸怀吸纳世界各地的先进文化。

对于人类面临的共同问题,中国提供了可以借鉴和实践的智慧和方案——世界各国一道共商、共建、共享,摒弃丛林法则,超越零和博弈,最终建成人类命运共同体。

2017 年 3 月 17 日,构建人类命运共同体理念更是首次载入联合国安理会决议。中国理念赢得了世界范围的认同,中国智慧日益成为全人类共同的财富。

- (3)结合材料,运用《文化生活》相关知识,分析中华文化为什么能为构建人类命运共同体贡献中国智慧。(6 分)



图 16



扫描二维码,关注北京高考官方微信!

查看更多北京高考相关资讯!

北京市朝阳区高三年级第二次综合练习

文科综合能力测试参考答案

2017.5

第一部分共 35 小题,每小题 4 分,共 140 分。

1	2	3	4	5	6	7	8	9	10
B	D	B	C	D	D	C	C	A	A
11	12	13	14	15	16	17	18	19	20
B	D	D	C	C	A	A	B	C	B
21	22	23	24	25	26	27	28	29	30
C	D	D	D	A	B	A	C	D	B
31	32	33	34	35					
B	D	A	C	C					

第二部分 共 6 小题,共 160 分。

36. (36 分)

(1)七、八月,南昌市太阳高度大,白昼长;(2 分)受副热带高压(或伏旱天气)控制,多晴天,(2 分)大气对太阳辐射削弱作用弱;(2 分)气流下沉,无风或风力小;(2 分)处在(鄱阳湖盆地)盆地中部,(2 分)不利于散热;省会城市人口众多,生活和生产排放大量余热。(2 分)(答出其中五点即可)

(2)分布在河流上游的山区(山谷)。(4 分)

有利条件:河流上游落差大,水库容量较大(水库蓄水位高);(2 分)在山谷修建水库大坝,可以利用山谷两侧的山地屏障(或者地形屏障),减小工程量(或节省成本);(2 分)山区人口稀少,移民工程量小;(2 分)山区耕地少,淹没农田面积小(2 分)。(答出其中三条即可)

(3)地处山区河流上游,(2 分)植被覆盖率高,生态环境好,水质好;(2 分)国家政策大力支持;(2 分)农业基础较好,技术不断进步。(2 分)

(4)从环境、旅游资源、市场距离、交通等方面作答即可。(8 分)

例:依山傍水的城市后花园,回归自然,体验乡野田园生活;森林氧吧,温泉养生,体验长寿文化;临近高速公路,距南昌约 1 小时车程。

37. (36 分)

(1)贡献:西方制图以经纬坐标为特征,注重相对位置的计算;中国关注制图中比例尺、方位和距离等相互关系,明确了制图内容及规范。(4 分)

原因:海陆丝绸之路的发展、新航路的开辟,促进了东西方经济、文化交流;西方传教士和中国学者翻译介绍中外书籍等,成为东西方文化交流的媒介。(4 分)

(2)特点:在制图观念与技术上,继承中国传统的同时,与西方近代科学相结合(4 分);在内容上,对世界知识的介绍日益准确清晰全面(2 分);突破官修地图的传统,民间绘制出

高三文科综合答案 第 1 页(共 3 页)

版逐渐增多。(2分)

因素：西学东渐不断深入；民族危机不断加剧；近代工商业、军事发展的需要；近代教育的变革。(6分)

(3)随着工业革命后交通运输方式和通讯技术的改进，欧洲移民大量流向美洲；美国迅速崛起，大量新兴产业部门及相对稳定的环境等吸引移民；战争和经济危机期间的社会动荡，移民潮时断时续；二战后欧洲的经济复兴急需劳动力，引发移民浪潮；20世纪70年代，资本主义经济出现“滞胀”现象，加之第三次科技革命带来的产业结构的调整，限制外来移民的政策出台。(表述变化4分；相关分析10分)

38. (1)倡议示例：从自身做起，保护景区环境；入乡随俗，尊重当地风土人情。(2分)

哲学知识建议：实践和认识的辩证统一关系；人生价值是在个人与社会的统一中实现；价值判断与价值选择的最高标准是维护人民群众的利益；实现人生价值的条件等。

等级水平	等级描述
水平4(9-12分)	发言稿观点鲜明，能表达自己的见解；知识运用准确、贴切；逻辑严密；条理清晰。
水平3(5-8分)	发言稿观点比较明确，能表达自己的见解；知识运用比较准确，贴切；逻辑较强，有条理。
水平2(2-4分)	发言稿观点不明确；简单罗列知识，知识运用不正确；逻辑混乱，条理性差。
水平1(0-1分)	应答与试题无关；重复试题材料内容；或没有应答。

(2)知识建议：当地政府要科学、民主、依法决策，有效解决面临的新情况、新问题，维护公民权益；政府要依法行政，坚持法定职责必须为，法无授权不可为，防止行政权力缺失，提高行政管理水平；政府要自觉接受监督，防止和减少工作失误，提高行政水平和工作效率，做到权为民所用，树立政府威信。

等级水平	等级描述
水平4(9-12分)	建议书观点鲜明，能表达自己的见解；知识运用准确、贴切；逻辑严密；条理清晰。
水平3(5-8分)	建议书观点比较明确，能表达自己的见解；知识运用比较准确，贴切；逻辑较强，有条理。
水平2(2-4分)	建议书观点不明确；简单罗列知识，知识运用不正确；逻辑混乱，条理性差。
水平1(0-1分)	应答与试题无关；重复试题材料内容；或没有应答。

(其他角度作答，言之成理，酌情给分)

(3)文化借助于特定的环境对人产生潜移默化和深远持久的影响，鼓励冒险允许失败的创新文化可以振奋员工的精神，激发创造活力，有利于新兴行业的创新发展；文化与经济相互交融，经济发展需要有利的文化环境，创新文化可以为相关企业技术创新提供智力支持，促进企业成长。(6分)

(其他角度作答，言之成理，酌情给分)

39. (1) ①高素质从业人员；(2分)

②消费对生产有反作用，消费拉动经济增长，促进生产发展，消费所形成的新的需要，对生产的调整和升级起着导向作用，能带动一个产业的出现和成长。(2分)

③示例：科技研发投入增长。科技进步是企业提高生产效率、获得竞争优势的重要手段，是推动产业升级的重要力量。(4分)

(答案不唯一。若从基本经济制度和非公经济、收入增长、企业组织结构、资金来源、分配制度、市场化程度、对外经济技术合作等角度作答，言之成理，酌情给分)

(2) 甲：生产决定消费，公交车查询软件使用，方便出行，提高生活水平和质量。有利于人们绿色出行，树立正确消费观，改善生态环境。(6分)

或乙：生产决定消费，手机网上购物，改变人们的消费方式，满足消费者精神需求。网络信息不实，退换手续繁琐，制约消费者购物，这将促使企业改善经营，树立诚信企业形象。(6分)

(答案不唯一。其他角度作答，言之成理，酌情给分)

40. (18分)

(1) 特点：将振兴实业和政治改革相结合；结合中国国情，学习运用西方理论；具有更广泛的民众基础。(4分)

原因：辛亥革命推翻了君主专制统治，为中国资本主义发展扫除了障碍；民族资产阶级社会政治地位的提高；民国政府制定和推行了一系列有利于经济发展的政策，激发了民族资产阶级投资近代工业的热情；西学东渐的深入，新文化运动的兴起，人们的思想得到了进一步的解放；第一次世界大战为民族资本主义的发展提供了客观条件。(4分)

(2) 引进人才，加大技术投入，进行技术创新；(2分) 缩减低端产品的生产规模，提高产品质量；(2分) 产品追求多元化、个性化；(2分) 加大宣传，提高产品知名度；(2分) 开拓国内外市场。(2分)

41. (24分)

(1) 对中国的影响：缩短石油运输距离，节省时间，节约运输成本；(2分) 石油进口路径多元化，保障能源安全。(2分)

对中缅两国的影响：带动相关产业发展；(2分) 增加就业；(2分) 加强区域之间合作，促进区域协调发展。(2分)

(2) 角色一：英国的殖民扩张破坏了印度原有的社会、经济结构；使印度成为英国原料产地、商品市场等，被卷入以英国为首的资本主义世界市场，印度成为英国的附庸；英国占据在政治、军事、资金、技术、国际贸易等多种优势，使印度工业化发展举步维艰。(4分)

角色二：客观上传播了新的生产方式，推动印度近代工业化的起步，推动了全球化的进程。(4分)

(3) 中华文化源远流长、博大精深，内涵丰富，其仁爱、和谐和中庸的核心价值与人类命运共同体中对话协商、合作共赢、交流互鉴、绿色发展等理念具有相通性。(3分)

中华文化具有很强的包容性，尊重文化多样性，吸纳世界各地的先进文化。共商、共建、共享的中国理念赢得世界范围的认同，为构建人类命运共同体发挥着独特作用。(3分)

(其他角度作答，言之成理，酌情给分)

高三文科综合答案 第3页(共3页)