

考生须知	<p>1. 答题前,考生务必先将答题卡上的学校、班级、姓名、准考证号用黑色字迹签字笔填写清楚,并认真核对条形码上的准考证号、姓名,在答题卡的“条形码粘贴区”贴好条形码。</p> <p>2. 本次练习所有答题均在答题卡上完成。选择题必须使用 2B 铅笔以正确填涂方式将各小题对应选项涂黑,如需改动,用橡皮擦除干净后再选涂其它选项。非选择题必须使用标准黑色字迹签字笔书写,要求字体工整、字迹清楚。</p> <p>3. 请严格按照答题卡上题号在相应答题区内作答,超出答题区域书写的答案无效,在练习卷、草稿纸上答题无效。</p> <p>4. 本练习卷满分共 100 分,作答时长 90 分钟。</p>
------	--

第一部分（选择题 共 45 分）

本部分共 15 小题，每小题 3 分，共 45 分。在每小题列出的四个选项中，选出最符合题目要求的一项。

1. 考古学家在四川广汉三星堆（巴蜀文化的代表）出土的青铜器中，不仅发现了黄河流域商朝和周朝装饰风格的云雷纹，而且还见到了与淮河上游安徽阜南县出土的龙虎尊（商王盘庚下令铸造）相似的造型和装饰。这些发现说明了商周时期

- A. 商周王朝对四川实施了有效管辖
- B. 巴蜀文化影响了中原文化的发展
- C. 青铜器物是长途贸易的主要商品
- D. 不同的地域之间存在着文化交流

2. 韩非子在《五蠹》中，先是叙述了守株待兔的故事，指出“今欲以先王之政，治当世之民，皆守株之类也”，进而提出“世异则事异”“事异则备变”。这些主张体现了中华优秀传统文化的内涵是

- A. 自强不息
- B. 道法自然
- C. 崇德尚贤
- D. 和而不同


3. 《汉书·刑法志》记载了汉景帝颁发的一道诏书中的内容：“高年老长，人所尊敬也；鳏寡不属逮（孤身一人）者，人所哀怜也。其著令：年八十以上，八岁以下，及孕者未乳，师、侏儒，当鞠系（审讯囚禁）者，颂系（不加刑具）之。”作为文献史料，它可以佐证西汉初期

- ①采用黄老思想治国
 - ②确立儒学独尊地位
 - ③优抚社会弱势群体
 - ④任用酷吏治理地方
- A. ①② B. ②③ C. ①③ D. ③④

4. 唐朝史学家杜佑在《通典》中指出两税法“恒额既立，加益莫由，浮浪（不定居的人）悉收，规避无所”“人知定制，贪冒之吏，莫得坐奸，狡猾之氓（百姓），皆没其籍（登记并没收家产）”。杜佑认为两税法的实施可以起到的主要作用是

- A. 稳定了社会秩序
- B. 杜绝了贪官污吏
- C. 增加了农民负担
- D. 保证了国家收入

5. 宋代人刻印书籍，往往在书的首尾或序后、目录后刻一“牌记”，载有出版人、刻书人、出版日期、版权声明等信息。右图中的“牌记”写明“眉山程舍人宅刊行，已申上司不许覆板（盗版）”。下列对宋代“牌记”的解释正确的是



- A. 体现了程朱理学的主张
 - B. 反映了商品经济的发展
 - C. 规范了活字印刷的流程
 - D. 丰富了宋代书籍的内容
6. 右表展示了清朝军机处的日常工作，从中可以看出

发折	奏事处将官员奏折发送军机处
接折	军机章京将奏折送军机大臣阅
见面	军机大臣将奏折送皇帝处请旨
述旨	将皇帝旨意拟成谕旨再交皇帝御览
过朱	皇帝朱笔改定奏折
交发	将谕旨下发有关衙门实施
开面	将谕旨抄录备案

- A. 军机大臣统领百官
- B. 中枢机构相互制约
- C. 皇帝掌控军国要务
- D. 权力分割过于繁密

7. 新疆是我国领土不可分割的一部分。下列是中国历史上在新疆地区设治管理的措施，按时间先后排序正确的是

- ①在新疆地区正式建省
 - ②设置西域都护府
 - ③设置安西都护府
 - ④设立伊犁将军
- A. ①②③④ B. ②③④① C. ③②①④ D. ②④③①

8. 1896年，李鸿章率团出访美国，一位美国记者向李鸿章提出了“美国资本在清国投资有什么出路吗”的问题，李鸿章在回答时提及1879年美国前总统格兰特向他提出“必须要求欧美资本进入清国以建立现代化的工业企业，帮助清国人民开发利用本国丰富的自然资源”的往事。下列对两位美国人言论的判断正确的是

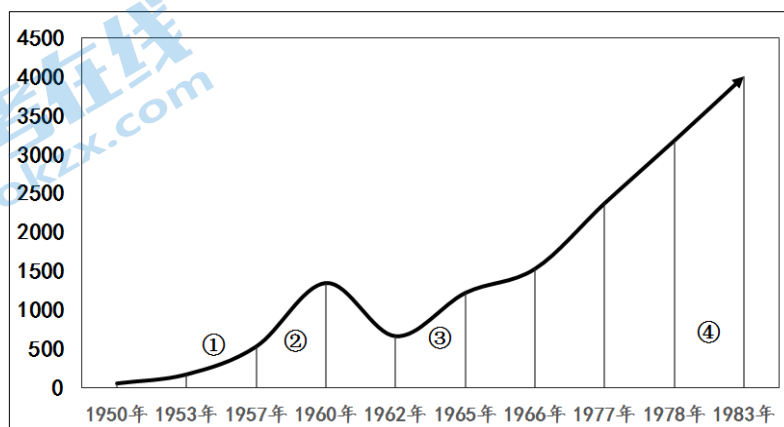
- A. 体现了美国企业家的需求
- B. 意在帮助中国实现现代化
- C. 顺应中国洋务运动的需要
- D. 维护欧洲列强的在华利益

9. 1916年，陈独秀在《新青年》上发表文章，反对妇女从父、从夫、从子的“三从”，主张妇女参政，夫死可以再嫁、交际自由、生活独立。这反映出当时中国

- A. 共和观念深入人心
- B. 爱国斗争此起彼伏
- C. 平等思潮影响广泛
- D. 封建伦理受到冲击

10. 下图为中国钢产量变化形势图（单位：万吨）。下列对图中③段中国钢产量变化背景的表述正确的是

- A. 苏联政府提供援助
- B. 国民经济政策调整
- C. 西方先进技术引进
- D. 市场经济体制建立



11. 公元前 8 世纪的希腊，谷物来自埃及、西西里等地，腌鱼来自西班牙等地，木材和沥青来自马其顿，铅来自安纳托利亚（今土耳其）。这些史实可以用于说明

- A. 希腊人建立了殖民帝国
B. 世界市场的雏形开始出现
C. 环地中海地区贸易繁荣
D. 希腊文明扩展到欧亚大陆

12. 美国历史学家罗斯比提出“生态帝国主义”的概念，指出欧洲人之所以在南北美洲、澳大利亚、新西兰等广大地区成功殖民，其中一个因素是他们带去了旧大陆的动物、植物和疾病，这些生物挤占了各地土生土长的动植物的生存空间，许多物种甚至民族，惨遭灭绝。下列对上述欧洲人所作所为的看法正确的是

- ①客观上反映了历史的发展趋势
②给被征服地区带来了深重灾难
③体现了不同地区的文化交流
④有利于欧洲资本主义的发展
- A. ①②③
B. ①②④
C. ①③④
D. ②③④

13. 美国独立后，东北部新英格兰地区的乡镇不设议会，由全镇居民大会选举产生行政委员。行政委员在处理公务时，要按照本乡镇居民早先通过的原则办事，如果想对既定的事项进行任何更改，则需要召开居民大会进行民主表决，并严格执行表决结果。关于新英格兰地区的乡镇自治，下列说法正确的是

- A. 行政委员拥有决策权
B. 居民大会掌握司法权
C. 体现三权分立的原则
D. 具有直接民主的特点

14. 右侧是近现代某一国际条约部分条款的内容，这一条约所属的国际体系是

- A. 威斯特伐利亚体系
B. 维也纳体系
C. 凡尔赛—华盛顿体系
D. 雅尔塔体系

(三) 施用各国之权势，以期切实设立并维持各国在中国全境之商务实业机会均等之原则。

(四) 不得因中国状况，乘机营谋特别权利，而减少友邦人民之权利，并不得奖许有害友邦安全之举动。

15. 下列选项中，史实与结论相符的是

	史 实	结 论
A	16-17 世纪，欧洲在“科学革命”中形成了重视经验和事实的理性化思维方式	有利于启蒙思想的产生
B	1870 年，英国规定重要的文官职位必须通过公开竞争考试择优录用	体现了文官政治的中立原则
C	1941 年，埃塞俄比亚人民击败意大利侵略军，恢复了国家独立	瓦解了资本主义世界殖民体系
D	1958 年，苏联政府取消农产品义务交售制，改为农产品采购制	摒弃了高度集中的计划经济体制

第二部分（非选择题 共 55 分）

本部分共 5 大题，共 55 分。请用黑色字迹签字笔在答题卡上各题的答题区域内作答，在试卷上作答无效。

16.（10 分）民族迁徙

魏晋南北朝时期以前，我国的民族人口分布基本上是分族聚居的格局，即汉族（华夏族）集中分布于黄河中、下游的中原地区，其他少数民族则分别集中分布在周边各个地区。经过魏晋南北朝时期的民族迁徙，各族的分布形成犬牙交错的状态。

北方少数民族进入中原后，由游牧而定居，多数从事农耕地。而自东晋南朝以来，南方的少数民族逐渐从山谷中迁出，在与汉族杂居的过程中，经济、文化和生活风俗上的差异逐渐消失。同时，由于北方少数民族的影响，中原汉族在生活习惯和习俗文化方面也在悄然变化。

魏晋以来，中原地区汉族为避战乱大批迁往辽东、河西等边疆地区和江南地区，不仅使当地的劳动人手大大增加，而且为当地人民带去了先进的生产工具和耕作技术，对于开发当地经济起到了重要作用。

——摘编自伍晓晴《魏晋南北朝民族迁徙的特点及影响》等
依据材料和所学，指出魏晋南北朝时期民族迁徙的方向，并阐述其影响。（10 分）

17.（8 分）依靠人民创造历史

一百年来，中国共产党团结带领中国人民，以“为有牺牲多壮志，敢教日月换新天”的大无畏气概，书写了中华民族几千年历史上最恢宏的史诗。这一百年来开辟的伟大道路、创造的伟大事业、取得的伟大成就，必将载入中华民族发展史册、人类文明发展史册！

……

新的征程上，我们必须紧紧依靠人民创造历史，坚持全心全意为人民服务的根本宗旨，站稳人民立场，贯彻党的群众路线，尊重人民首创精神，践行以人民为中心的发展思想，发展全过程人民民主，维护社会公平正义，着力解决发展不平衡不充分问题和人民群众急难愁盼问题，推动人的全面发展、全体人民共同富裕取得更为明显的实质性进展！

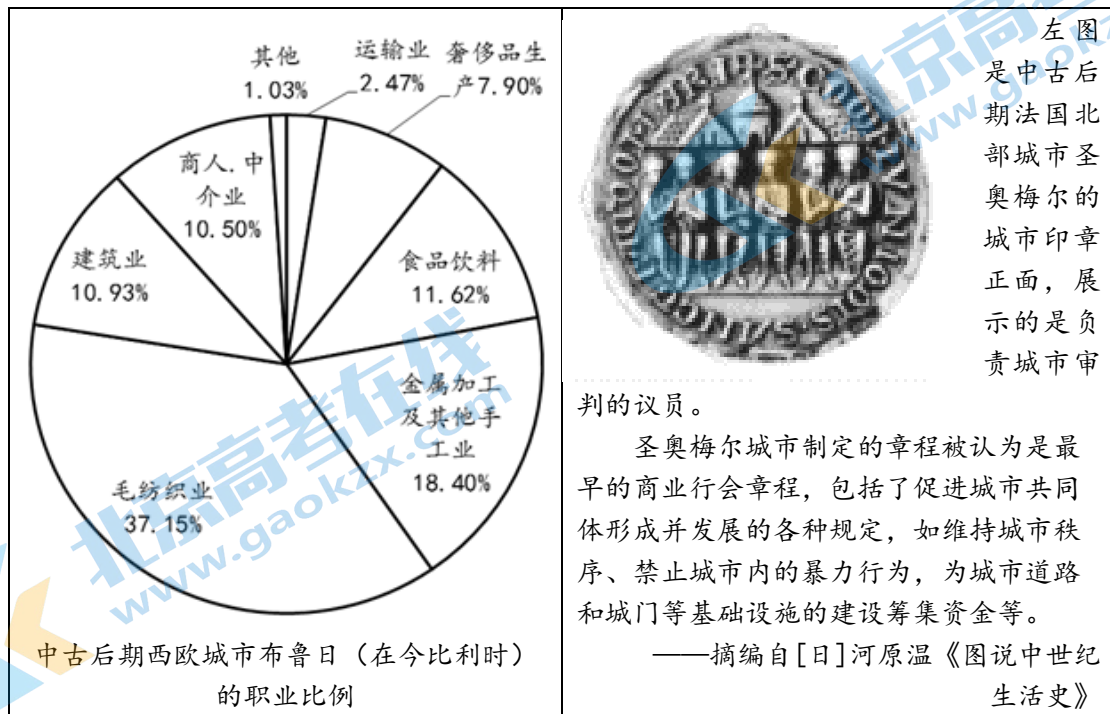
——习近平《在庆祝中国共产党成立 100 周年大会上的讲话》

阅读材料并结合所学，从新民主主义革命时期（1919—1949 年）选取一个实例，阐述中国共产党是如何依靠人民创造历史的。（8 分）

要求：观点正确，史论结合，论证充分，逻辑清晰。

18. (12分) 欧洲城市发展

材料一



材料二

<p>1760年前，英国的城市居民有的还从事农业，有的虽是手工业工人，但一般还租几英亩地，把农活作为一种副业。此外，居民里还有手工工场主、商人、银行家、房地产者……等等。工业革命之后，一般说，工人阶级占居民的四分之三左右，资本主义城市的实际主人：工业家、金融家、靠年金或红利过活者、房地产主……等等，约占居民的四分之一左右，此外，还有少量的小资产阶级如小商人和人数极少的手工业者。</p> <p>——摘编自庄解忧《英国工业革命时期城市的发展》</p>	<p>据统计，1785年，在英格兰和苏格兰，除伦敦以外，五万人以上的城市只有三个；七十年以后，这样规模的大不列颠城市已经有了三十一个。</p> <p>在这些新兴城市中，最突出的是兰开夏郡的曼彻斯特。在棉纺织厂出现之前，曼彻斯特已经是一个相当大的商业中心。尽管它的历史悠久，但是尚未引起人们足够重视。曼彻斯特的人口，从1772年的二万五千人增至1851年的四十五万五千人，成为第一个最著名的现代化工业城市。</p> <p>——摘编自[美]帕尔默《现代世界史》</p>
---	--

(1) 依据材料一，概括中古后期西欧城市的特点。(4分)

(2) 依据材料二，谈谈你对英国城市发展变化与工业革命之间相互关系的理解。(8分)

19. (11分) 尼克松访华的报道

1972年2月美国总统尼克松访华，下表列举的是当时部分媒体的报道：

序号	内容
①	《日本经济新闻》在文章中指出：“尼克松总统和毛主席笑容可掬握手的一帧照片无疑是像雷电一样打在苏联首脑的心坎上。”
②	日本《读卖新闻》发文指出：“自新中国诞生以来，中国已经具有作为拥有核战力的大国的发言权……陷入越南战争泥潭的美国不得不在政治、经济和军事上从亚洲退却。”
③	意大利《天使报》指出：“(尼克松访华)是因为对美国威胁最大的敌人仍然是苏联这个大国。”
④	《纽约时报》的评论指出：“这一史无前例的事件既证明了美国外交政策的重大变化，也证明了中华人民共和国作为世界最强大国家之一的地位。”

采用“从尼克松访华的新闻报道看XXXX”的格式，从上述新闻报道中选定一个视角，结合材料和所学知识对该视角进行解读。(11分)

20. (14分) 梁启超事迹展

序号	时间	梁启超事迹(部分)
①	1895年	4月，与康有为在北京发起著名的“公车上书”。8月，协助康有为在北京创办《万国公报》，开展变法运动的宣传组织工作
②	1896年	与汪康年、黄遵宪等人在上海创办《时务报》，发表《变法通议》等政论性文章，呼吁变法图强
③	1898年	3月，与康有为一起在北京建立保国会。6月，参与百日维新
④	1898年	变法失败后逃往日本。12月，在横滨创办《清议报》，又著成《光绪圣德记》和《戊戌政变记》等，猛烈攻击清政府及慈禧太后，盛赞光绪帝
⑤	1902年	2月，在日本创办《新民丛报》广泛介绍欧美的政治、经济、思想文化，批判封建主义，揭露清王朝的黑暗
⑥	1904年	死守保皇、君主立宪的主张，亲自出马与革命派展开大论战
⑦	1906年	在东京成立政闻社，为清朝的立宪呐喊助威
⑧	1912年	8月，成为民主党的领袖，企图在袁世凯政权下推行政党政治
⑨	1913年	担任进步党理事。9月15日，进步党人熊希龄组织“第一流人才内阁”，梁启超出任司法总长
⑩	1915年	发表《异哉所谓国体问题者》，斥责袁世凯称帝。后又与蔡锷联合，共同发起了护国运动

班里准备举行梁启超事迹展，依据材料完成下列任务：

(1) 人物事迹展览首先要有前言，前言主要说明举办展览的目的。请简要写出本展览的前言。(4分)

(2) 本展览要分3段进行展示。请将材料中梁启超事迹分段，每段拟定一个主题，并写出该段所包括的事迹序号。(6分)

(3) 人物事迹展览要有结束语，主要内容是对所展览的人物进行评价。请写出评价梁启超的设计思路。(4分)

关于我们

北京高考在线创办于 2014 年，隶属于北京太星网络科技有限公司，是北京地区极具影响力的中学升学服务平台。主营业务涵盖：北京新高考、高中生涯规划、志愿填报、强基计划、综合评价招生和学科竞赛等。

北京高考在线旗下拥有网站门户、微信公众平台等全媒体矩阵生态平台。平台活跃用户 40W+，网站年度流量数千万量级。用户群体立足于北京，辐射全国 31 省市。

北京高考在线平台一直秉承 “精益求精、专业严谨” 的建设理念，不断探索 “K12 教育+互联网+大数据” 的运营模式，尝试基于大数据理论为广大中学和家长提供新鲜的高考资讯、专业的高考政策解读、科学的升学规划等，为广大高校、中学和教科研单位提供 “衔接和桥梁纽带” 作用。

平台自创办以来，为众多重点大学发现和推荐优秀生源，和北京近百所中学达成合作关系，累计举办线上线下升学公益讲座数百场，帮助数十万考生顺利通过考入理想大学，在家长、考生、中学和社会各界具有广泛的口碑影响力

未来，北京高考在线平台将立足于北京新高考改革，基于对北京高考政策研究及北京高校资源优势，更好的服务全国高中家长和学生。



微信搜一搜

北京高考资讯