

海淀区高三年级第一学期期末练习

历史

2019.1

第一部分（选择题，共48分）

本部分共 32 小题，每小题 1.5 分。共 48 分。在每小题列出的 4 个选项中，选出最符合题目要求的一项。

- 1920 年 5 月 1 日,《新青年》纪念劳动节专刊出版。专刊发表了蔡元培“劳工神圣”的题词、李大钊的《“五一”运动史》和陈独秀的《上海厚生纱厂湖南女工问题》等文章。这一现象表明
A. 中国共产党领导工人运动
B. 知识分子开始关注劳工问题
C. 五四运动取得了初步胜利
D. 劳工和妇女的地位得到改善
- 1923 年 11 月,孙中山在广州发表演说:“吾等欲革命成功,要学俄国的方法组织及训练,方有成功的希望。”“吾党欲求真正之成功……要靠党员的成功,不专靠军队的成功。”“从今以后,要以人民的心力为吾党力量,要用人民心力奋斗。”为实现上述主张,孙中山
A. 全面接受中国共产党的革命纲领
B. 创立革命政党,推进民主革命
C. 改组国民党,推动国共两党合作
D. 组建广东国民政府,发动北伐
- 北伐战争中,共产党员叶挺领导的独立团英勇善战,先后攻克汀泗桥与贺胜桥,率先攻入武昌城,俘虏守敌 1 万余人,基本上歼灭了吴佩孚的主力,两湖战事胜利结束。这表明
A. 国民革命在闽粤等省兴起
B. 共产党开始掌握革命武装领导权
C. 革命势力发展到长江流域
D. 国共合作的统一战线进一步巩固
- 俄国十月社会主义革命依靠城市无产阶级取得了成功,但 1927 年中国共产党却将党的工作重点由城市转向农村,开辟了“工农武装割据”的道路。这体现了
A. 农民阶级成为革命领导力量
B. 马克思主义与中国国情相结合
C. 毛泽东的党内领导地位确立
D. 中国共产党开始创建人民军队
- 右图为 1935 年 5 月 7 日《新民报》刊登的“华德牌”电灯泡广告。这一广告反映了



6. 右图是抗日战争时期正面战场的某次会战，关于这次会战说法正确的是

- A. 粉碎日军三个月灭亡中国的计划
- B. 八路军在会战中取得平型关大捷
- C. 中国军队取得了台儿庄战役胜利
- D. 会战之后抗日战争进入相持阶段



7. 1941 年颁布的《陕甘宁边区施政纲领》规定：“在共产党员被选为某一行政机关之主管人员时，应保证该机关之职员有三分之二为党外人士充任，共产党员应与这些党外人士实行民主合作。”该规定

- ①推动了国共两党军事合作
- ②有利于协商民主的发展
- ③巩固了抗日民族统一战线
- ④促成战略决战取得胜利

- A. ①②
- B. ②③
- C. ②④
- D. ③④

8. 右图所示是位于北京香山的双清别墅。1949 年 3 月，毛泽东入住此地，在这里指挥了一场重要的战事。该战事是

- A. 辽沈战役
- B. 淮海战役
- C. 平津战役
- D. 渡江战役



9. 阅读“新中国第一届中央人民政府委员会人员构成”表，这种人员构成

类别	副主席	副总理	政务院领导成员
总人数	6	4	21
民主人士数	3	2	11

- A. 有利于加快民主革命的胜利
- B. 标志着社会主义制度的确立
- C. 保证了“一五”计划的实施
- D. 体现了政治协商的民主原则



10. 新中国成立后，进行了有史以来最大规模的水利建设。1950 年重点是治理连年泛滥的淮河，以后，全国水利建设从防洪减灾转向保持水土，发展水利。三年中两千万人参加水利建设，完成土方 17 亿立方米。三年大规模水利建设的直接影响是

- A. 完成土地改革
- B. 稳定市场物价
- C. 促进农业发展
- D. 支援朝鲜战争

11. 1953 年，苏联照会美、英、法三国政府，提议召开有中华人民共和国参加的五大国外长会议，讨论缓和国际紧张局势的问题，中国对此予以了积极回应。会议于次年顺利召开。西方媒体报道时使用了“五大国会议”的说法。该会议讨论的是

- A. 解决朝鲜问题和印度支那问题
- B. 谋求中美关系的正常化
- C. 恢复新中国在联合国合法席位
- D. 促进亚太地区经济合作

12. 右组图是我国“一五”计划期间宣传社会主义建设的海报。下列对其解读正确的是
- A. 当时我国各行业实现了机械化
- B. 促进各种所有制经济共同发展
- C. 社会主义建设与改造同步进行
- D. 农村地区成为建设的重点地区



13. 1960年，中央大刀阔斧地对工业企业实行关、停、并、转，降低重工业的生产指标。1962年，全国县以上的工业企业共减少44万个。与此同时，化肥、农用机械、农用电力等方面的生产能力则保留下来，并不断增长。这些措施
- A. 贯彻了党和政府经济调整的方针
- B. 促进了国民经济各领域高速发展
- C. 实现了社会主义建设总路线要求
- D. 奠定了社会主义工业化初步基础
14. 20世纪60年代，我国科技工作者发扬“自力更生、艰苦奋斗”的精神，取得了一系列重大科技成就。下列成就属于该时期的是
- A. 原子弹和导弹
- B. “东方红一号”卫星
- C. “银河”系列计算机
- D. “神舟”系列飞船
15. 1980年，《人民日报》改版，开辟了《经济简讯》《祖国各地》《实干录》《新风赞》《国际简讯》等新栏目。经济新闻成为报道重点，篇幅和数量不断增加。出现这种现象的原因是
- A. “双百”方针重新得到贯彻执行
- B. 邓小平提出社会主义初级阶段的理论
- C. 社会主义市场经济体制目标提出
- D. 十一届三中全会后党的工作重心转移
16. 1983年，一些人视特区为异端，怀疑“特区姓‘资’不姓‘社’了”。1984年邓小平第一次视察深圳等特区，并题字“建立经济特区的政策是正确的”。20世纪90年代初，针对国内外局势的变化，邓小平又到深圳等南方城市视察。这两次南方视察的共同点是
- A. 促进了经济特区的设立
- B. 实践了“一国两制”的构想
- C. 推动了改革开放的深入
- D. 提出了经济体制改革的目标
17. 梭伦被称为“民主之父”。他划分自由人和奴隶之间的界线，对于界定雅典的公民概念具有重要意义，还帮助农民获得自由身份，由此奠定城邦民主政治的基础。下列选项中，奠定“基础”的措施是
- A. 废除债务奴隶制
- B. 实行陶片放逐法
- C. 召开五百人会议
- D. 鼓励发展工商业
18. 哲学家认为世界上有三种桌子：一种是画家画的桌子，一种是现实中的桌子，一种是作为桌子的概念的桌子。按照柏拉图的思路
- A. 画中的桌子最完美
- B. 现实中的桌子最完美
- C. 桌子的概念最完美
- D. 三种桌子都不完美

19. 公元前 445 年, 根据坎努利优斯法, 废除了《十二铜表法》中平民与贵族通婚的禁令。次年, 具有执政官权力的军政官职位, 也向平民开放。这表明
- A. 平民的政治和社会权利得到了扩大 B. 贵族从此丧失参政的权利
- C. 《十二铜表法》注重保护平民权益 D. 罗马法体系最终确立起来
20. 据统计, 到 1600 年, 全西欧的总价格水平比 1500 年高出 200-300%, 其中西班牙上涨幅度最高, 平均达到 4 倍。法国、英国、德国、荷兰则平均上涨两倍到两倍半。这一现象对欧洲社会的影响是
- A. 资本主义萌芽出现 B. 社会阶层固化严重
- C. 贵重金属大量流入 D. 封建经济关系破坏
21. “荷兰是第一个充分发展殖民制度的国家, 在 1648 年就已达到了它商业繁荣的顶点。”而英国则在 18 世纪成为拥有“最大殖民威力的国家”。导致英国后来居上的相关因素是
- ①独占海上航运 ②发动殖民战争 ③确立君主立宪 ④完成工业革命
- A. ①② B. ②③ C. ②④ D. ③④
22. 文艺复兴时期著名学者伊拉斯谟说: “假如上帝造人同陶工造瓦罐一样, 或者同他造石头一样, 那么人作为整体有什么价值呢?” 这表明, 伊拉斯谟
- A. 强调人的个性和尊严 B. 宣扬上帝和教会权威
- C. 质疑人类存在的价值 D. 提倡人对上帝的服从
23. 路德曾说, 在他以前的改革者攻击的是教廷的腐朽生活, 而他所攻击的是教会赖以存在的学说。这是因为路德的学说
- A. 主张人因为信仰而得救 B. 提出“君权神授”理论
- C. 否定了基督教神学体系 D. 削弱了世俗君主的权威
24. 右图所示是英国历史学家莫尔顿的《人民的英国史》的目录节选, 这部著作第一次将马克思主义的历史分析方法运用到英国历史的研究。关于英国革命, 作者的观点应该是
- A. 资本主义的发展是最根本的动因
- B. 启蒙运动为革命提供了思想武器
- C. 法国大革命具有直接的激励作用
- D. 农民是推动革命成功的主要力量
-

第三章 封建的英国

第四章 封建主义的衰落

第五章 中世纪的结束

第六章 新君主政治与资产阶级

第七章 英国革命的由来

第八章 英国革命

一 长期议会: 各阶级与党派

二 内战

.....
25. 孟德斯鸠认为: “一个公民的政治自由是一种心境的平安状态。这种心境的平安是从人人都认为他本身是安全的这个看法产生的。要享有这种自由, 就必须建立一种政府, 在它的统治下一个公民不惧怕另一个公民。”由此, 他主张
- A. 建立民主共和制度 B. 实行三权分立的体制
- C. 发动人民进行革命 D. 以理性反对宗教狂热

26. 制宪会议通过联邦宪法后，1787年10月31日《独立报》刊发杰伊的文章：“美利坚人民眼下面临一个问题……是结合为一个国家，在一个联邦政府的领导下；还是分开，组成几个单独的联盟？人民已经接受一种观念，美利坚人民，应该继续坚定联合，这一点，无人反驳。”杰伊的文章
- A. 鼓动北美人民争取独立
B. 主张完整保留各州主权
C. 呼吁各州批准联邦宪法
D. 支持华盛顿领导的政府
27. 关于法国大革命，学者们有着截然相反的评价，保守派学者认为“法兰西岂止丧失了旧政府，简直丧失了一切政府”。民主派学者则认为“这是公正的反抗，永恒正义的为时已晚的来临”。这两种观点都
- A. 否定革命的正面作用
B. 赞同革命带来的变化
C. 强调了革命的正义性
D. 承认革命改变了法国
28. 1802年英国出台第一部《工厂法》，法律规定：9岁以上的儿童每天可以工作8小时，14岁以上的儿童每天可以工作12小时；他们不能在凌晨6点之前工作，他们睡觉的时间不能晚于凌晨2点。由此可以推断
- A. 工厂主注重保障儿童正当权益
B. 工业革命中工人生存状况恶劣
C. 工厂规范化和制度化体系出现
D. 工人罢工斗争赢得了合法权益
29. 1830年在工业中心伯明翰成立了“伯明翰政治同盟”，在其宣言中提出了改变“工业和商业的利益几乎全无代表的状况”的要求。其他工业城市也提出类似要求。这种要求推动英国
- A. 发动革命推翻君主专制制度
B. 进行殖民扩张发展海外贸易
C. 鼓励技术革新促进工业发展
D. 开展议会改革调整议席分配
30. 《共产党宣言》提出：“工人变成赤贫者，贫困比人口和财富增长得还要快。”“在当前同资产阶级对立的一切阶级中，只有无产阶级是真正革命的阶级。”“共产党人的目的只有用暴力推翻全部现存的社会制度才能达到。”以上言论
- A. 促进了早期工人运动兴起
B. 揭示了无产阶级的历史使命
C. 属于空想社会主义的思潮
D. 揭露资本家剥削工人的秘密
31. 读右图。图中所示的战争对欧洲政局产生的影响是
- ①法兰西第二帝国垮台
②反法联盟打败拿破仑
③德意志统一最终完成
④德国成为了欧洲霸主
- A. ①②
B. ②④
C. ①③
D. ③④
32. 1884年，法国议会对1875年宪法进行修改，对原来的第8条作如下补充规定：“政府的共和国形式不得成为宪法修改法案的对象。”“曾经统治法国的家族成员不得当选为共和国总统。”这一规定
- A. 首次在法国建立民主共和政体
B. 最终结束法国长期的政体之争
C. 开创以修正案完善宪法的先例
D. 使共和派掌握了政府重要机构



第二部分（非选择题，共52分）

33.（22分）比较法是学习历史和探究历史的一种重要方法。

材料一 古希腊有多次著名立法活动，但大都限于城邦内部，从未出现过统一而体系化的法典。古希腊的法律中没有发达的专业术语，成文法对后世影响不大，但其关于城邦民主政制的立法，即对于国家政体的思考，对以后欧洲国家的公法产生了较大影响。

古罗马于公元前5世纪制定了《十二铜表法》。罗马帝国时期，统一的法典不断推出。东罗马帝国皇帝查士丁尼汇编《民法大全》，标志着罗马法体系最终完成。古罗马的法律制度对后世的影响是巨大的。在古罗马社会经常使用的“债权”“继承权”“契约”“借贷”“租赁”等法律术语，注重协调经济和社会关系，在今天仍被广泛使用。

——摘编自王加卫《古希腊与古罗马法律制度的差异及其成因》等

（1）阅读材料一，结合所学，比较古希腊法律与古罗马法律的异同。（6分）

材料二

英国革命和法国大革命比较

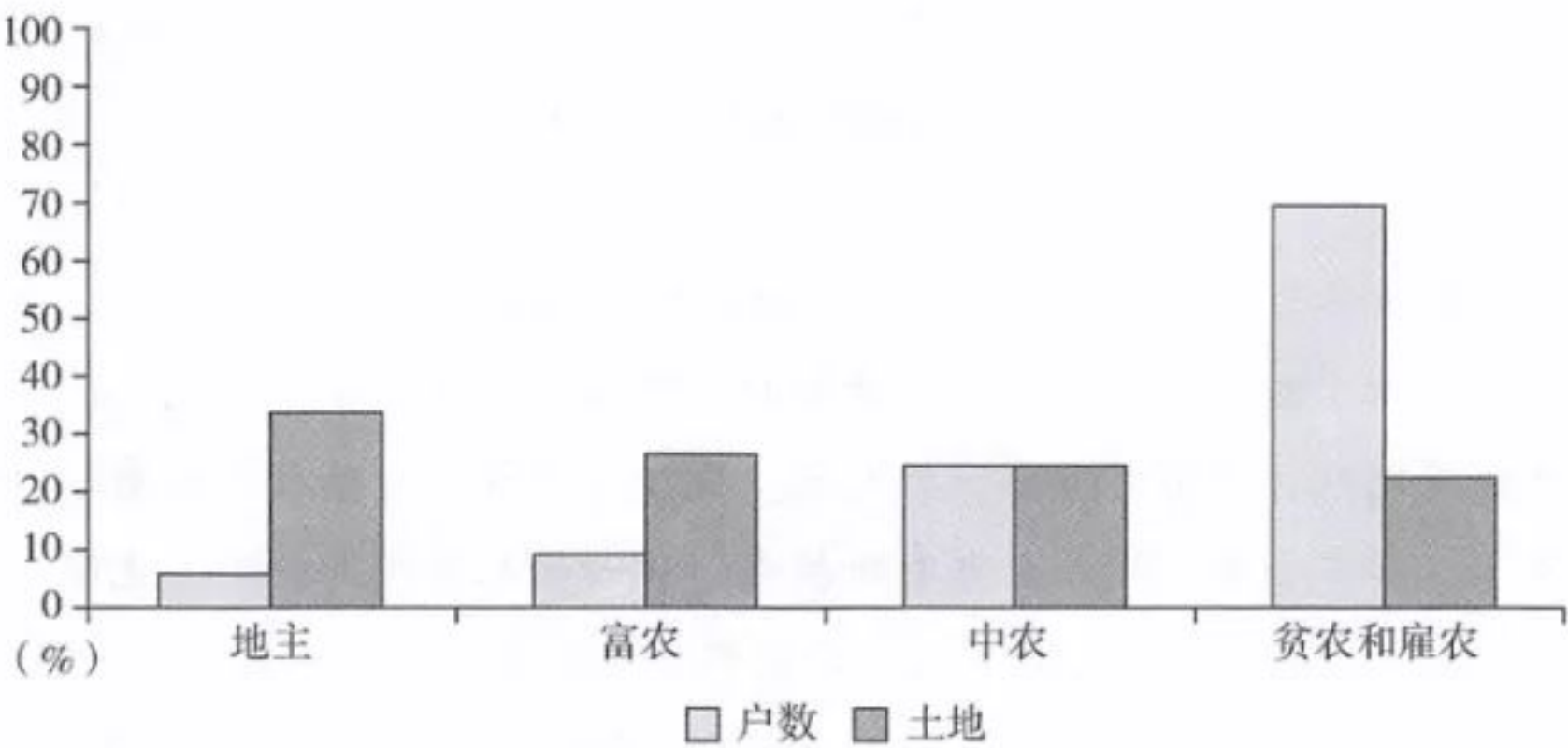
英国革命	法国大革命
<ul style="list-style-type: none">●资产阶级与新贵族结成联盟●舆论准备是清教运动，从而使革命披上宗教的外衣●王室和贵族土地都落入资产阶级和新贵族手中，大量农民被从土地上驱逐出去●保留了国王，建立起君主立宪制	<ul style="list-style-type: none">●资产阶级与人民群众结成联盟●舆论准备是富有批判精神的启蒙运动，反对教权，主张信仰自由和无神论●把逃亡贵族土地分成小块分给农民，使广大农民得到了土地●废除了君主制，建立了共和国

（2）阅读材料二，结合所学，对材料二的信息进行解读。（10分）

要求：提取信息充分；总结和归纳准确、完整；解释和分析逻辑清晰。

材料三

民国时期中国农村地权分配比较图



资料来源：吴文晖《现代中国土地问题之研究》

（3）阅读材料三，分析民国时期农村的土地占有状况及影响。这种土地占有状况在建国初是如何得到改变的？（6分）

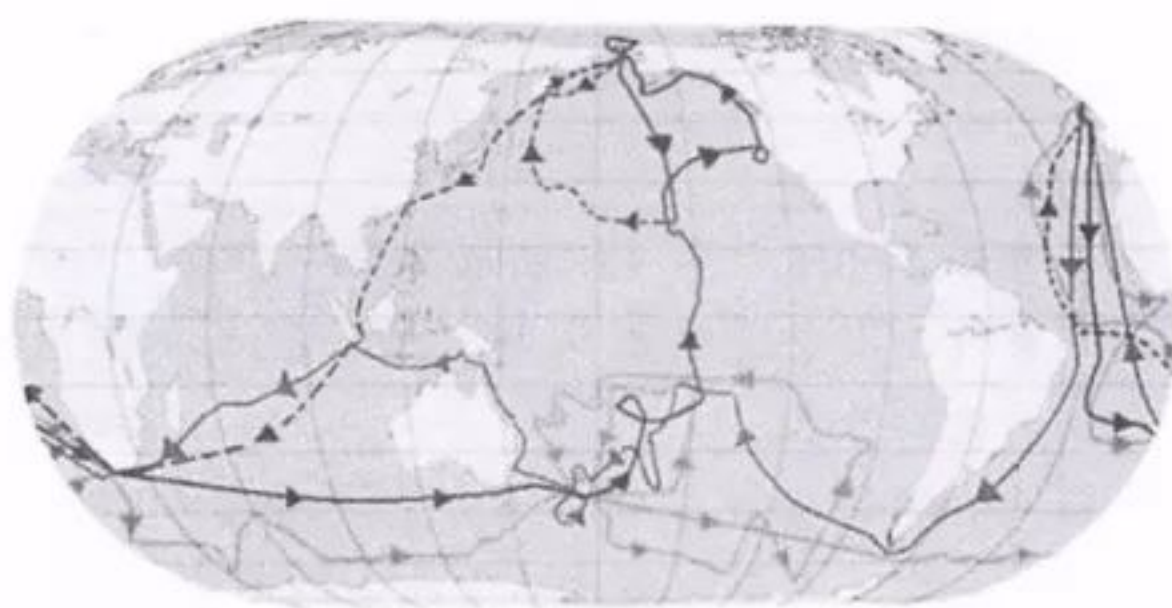
34. (20分)近代资本主义的发展伴随着对殖民地的残酷掠夺,被殖民地区的人民进行了英勇的反殖民侵略的斗争。

材料一 事实证明,在海地岛,哥伦布下达的黄金缴纳定额是不可能完成的。岛上没有金矿,印第安人交出了仅有的几件黄金饰物之后,唯一的希望就是整日呆在河里淘洗颗粒微小的金沙了,但是洗出的数量远远不够,完不成定额就会被剃去双手而处死。那些企图逃入深山的印第安人被猎狗追捕而遭到杀害。绝望的印第安人只好集体自杀,用毒药来了此一生。在两年时间内,岛上人口的一半,估计为12.5万到50万人都死掉了。到1515年仅有1万印第安人幸存,25年之后,除了还有几个父亲是西班牙征服者的混血儿梅斯蒂索人以外,整个种族都从地球上消灭了。

——[美]斯塔夫里阿诺斯《全球分裂:第三世界的历史进程》

(1)阅读材料一,结合所学,分析早期殖民侵略活动的特点和影响。(6分)

材料二 1768年,为扩大英帝国的版图,政府派海军军官库克寻找传说中的南方大陆。1769-1770年,库克到达新西兰和澳大利亚,并宣布澳大利亚为英国所有。同行的植物学家在澳大利亚发现331种新植物。库克在航海中绘制了大量海图,给世界地图增加了8000多公里的海岸线。后来,库克到达了夏威夷等岛屿,在与土著人冲突中被杀死。



库克船长的航海图

1788年英国在澳大利亚建立殖民地。大量的英国移民涌向澳大利亚,英国从澳大利亚获取大量黄金、羊毛等财富。英国移民为库克建立纪念碑和雕像。西方史学家将库克描绘成伟大的航海家和科学家。但在澳大利亚一些土著社区里,库克被当成道德沦丧者的典型;在土著人的艺术品中,库克船长的形象丑陋不堪,是一个带枪的大袋鼠和大海盗。

——摘编自郭方《看得见的英国史》

(2)阅读材料二,结合所学,评述库克船长的航海活动。(7分)

材料三 第一次世界大战期间(1914年至1918年),殖民地、半殖民地在贡献其各种资源的同时,也乘殖民列强忙于欧洲战场的厮杀,放松对“外围”地区的经济遏制之机,而使自己的民族资本主义经济获得比以往任何时期更大的增长。民族资产阶级力量壮大起来了,无产阶级的队伍也相应的壮大了,知识分子阶层人数也有所扩大,从而使社会经济结构发生深层次变动,阶级力量的配置也发生变化。反殖民主义力量的基础获得较大的充实。

——摘编自高岱 郑家馨《殖民主义史·总论卷》

(3)结合20世纪10年代后期至20世纪20年代中国历史的有关事实,论证材料三的观点。(7分)

35. (10分) 建国以来, 中国社会主义建设取得了巨大成就。

材料一 “一五”期间, 不仅原有的工业企业得到大规模改建、扩建, 大批国民经济发展所急需的基础工业也迅速建立起来。重工业方面, 能源基础、原料基础的建设以及机器制造业都发展迅速; 轻工业方面, 建材、纺织工业等都有一批重点项目投产。一批中国过去没有的现代化工业骨干部门, 如飞机、汽车、重型机械、新式机床、精密仪表、无缝钢管以及国防军工企业等, 都纷纷建立起来。到1957年, 全国工业产值比1952年增长128.6%。

1957年钢煤电等生产的增长幅度

项目	钢产量	煤产量	发电量
比1952年增长	296%	96%	166%
比1949年增长	33.9倍	4倍	4.5倍
比旧中国最高年产量增长	5.8倍	2.1倍	5.2倍

——摘编自陈勇勤《中国经济史》

(1) 阅读材料一, 概括“一五”期间工业化建设的成就。(5分)

材料二

2007年	对比的参照年份	增长倍数(倍)
高等学校在校学生数	与1978年相比	22.02
在校研究生数	与1978年相比	109.29
专利申请数	与1986年相比	49.75
专利批准数	与1986年相比	130.71

——据杨德才《中国经济史新论(1949-2009)》(下)

与80、90年代相比, 中国研发经费投入绝对规模呈现逐年快速增长。我国研发投入从2000年的108亿美元增加到2011年的1347亿美元, 年均增长率为28.7%; 到2011年, 中国研发经费投入绝对规模仅次于美国。2013年我国研发经费投入继续高速增长, 全年研发经费投入总量为13015.6亿元, 比上年增加1169亿元, 增长9.9%。

——吴建南等《变与不变、同与不同: 中美研发经费投入再比较》

(2) 阅读材料二, 说明新时期我国科教领域发展的特点及影响。(5分)

历史参考答案

2019.01

第一部分（选择题，共 48 分）

题号	1	2	3	4	5	6	7	8	9	10
答案	B	C	C	B	D	D	B	D	D	C
题号	11	12	13	14	15	16	17	18	19	20
答案	A	C	A	A	D	C	A	C	A	D
题号	21	22	23	24	25	26	27	28	29	30
答案	B	A	A	A	B	C	D	B	D	B
题号	31	32								
答案	C	B								

第二部分（非选择题，共 52 分）

33. (22 分)

(1) 同：都制订出成文法律；(1分)都对后世产生了影响。(1分)

异：古希腊法没有统一法典，罗马法体系统一完整；古希腊法中的专业术语不发达，罗马法中法律术语被广泛使用；古希腊法注重公法，罗马法私法发达。(希腊法律关注国家制度设计，罗马法注重经济社会生活)(3点4分)

(2) 评分标准：

水平1：没有比较意识，只分别对英、法两国的背景、内容及结果进行解读，0-2分。

水平2：有比较意识，仅从1个角度来简单比较相同点或不同点，如只罗列比较相同点：都是资产阶级领导、都建立了民主政治制度等，史论结合，逻辑清晰，3-4分。

水平3：能够从两个角度来进行比较，史论结合，逻辑清晰，总结归纳准确，5-7分。

或：能够从一个角度进行深入比较，史论结合，逻辑清晰，总结归纳准确，5-7分。

水平4：能够从三个及以上角度来进行比较，史论结合，逻辑清晰，总结归纳准确，8-10分。

(3) 状况：地主和富农人口少，但是占有土地比重最大。(1分) 贫农与雇农在人口比例中占绝大多数，但持有土地数量最少。(1分)

影响：农民贫困，和地主的阶级矛盾尖锐，(1分)广大农民投身共产党领导的新民主主义革命，成为革命的主要力量。(1分)

改变：建国初实行土地改革，废除地主土地所有制，建立农民土地所有制。(2分)

34. (20分)

(1) 特点：掠夺当地的黄金等贵金属，屠杀印第安人，充满血腥和罪恶。(2分)

影响：大量金银财富流入欧洲，促进了欧洲的资本原始积累。(2分)使得美洲印第安人大量死亡，严重阻碍了美洲经济的发展。(1分)为了弥补当地劳动力的不足，欧洲人开始从事奴隶贸易，从非洲掳掠大量黑奴。(1分)

(2) 库克到达澳洲的航行使这些地区相继成为英国的殖民地，成为英国重要的原料产地和收入来源。(2分)

打破了澳洲与世隔绝的状态。大量的英国移民涌入澳大利亚等地，促进了澳大利亚等地的开发，也为现代澳大利亚等国家奠定了基础。同时，库克的航海活动给当地的土著居民带来巨大灾难，使他们经历了残酷的殖民统治。(3分)

库克的航海活动促进了地理、生物等学科知识的进步，促进了航海事业的发展。(2分)

(3) 观点：一战中民族资本主义的发展促进战后民族解放运动的兴起。(2分)

事实：中国民族资本主义获得迅速发展(民族工业的短暂春天)，无产阶级的队伍不断壮大。(1分)1919年爆发反帝爱国的五四运动，(1分)无产阶级开始登上历史舞台。1921年中

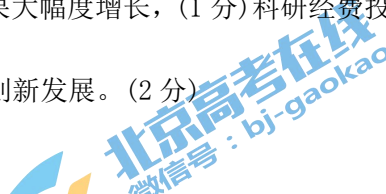
国共产党诞生，新民主主义革命在中国蓬勃展开。(2分)。1924年，国民革命运动兴起，沉重打击了帝国主义在华势力。(1分)

35. (10分)

(1) 大规模改造原有的工业企业，钢煤电生产增长迅速，建立起基础工业体系。(2分) 重工业发展尤为迅速，轻工业也得到发展，建立起现代化工业部门。(2分) 工业产值大幅度增长；奠定了社会主义工业化的初步基础。(1分)

(2) 特点：高等教育迅速发展，(1分) 专利成果大幅度增长，(1分) 科研经费投入加快(1分)。

影响：促进科学技术进步和经济增长，推进创新发展。(2分)



北京高考在线是长期为中学老师、家长和考生提供新鲜的高考资讯、专业的高考政策解读、科学的升学规划以及实用的升学讲座活动等全方位服务的升学服务平台。自2014年成立以来一直致力于服务北京考生，助力千万学子，圆梦高考。

目前，北京高考在线拥有旗下拥有北京高考在线网站和北京高考资讯微信公众号两大媒体矩阵，关注用户超10万+。

北京高考在线_2018年北京高考门户网站

<http://www.gaokzx.com/>

北京高考资讯微信：bj-gaokao



北京高考资讯

关于我们

北京高考资讯隶属于太星网络旗下，北京地区高考领域极具影响力的升学服务平台。

北京高考资讯团队一直致力于提供最专业、最权威、最及时、最全面的高考政策和资讯。期待与更多中学达成更广泛的合作和联系。

长按二维码 识别关注



微信公众号：bj-gaokao

官方网址：www.gaokzx.com

咨询热线：010-5751 5980