

绝密★启用前

天一大联考

安徽省 2022—2023 学年第二学期高三开学考

文科综合

考生注意：

1. 答题前,考生务必将自己的姓名、考生号填写在试卷和答题卡上,并将考生号条形码粘贴在答题卡上的指定位置。
2. 回答选择题时,选出每小题答案后,用铅笔把答题卡对应题目的答案标号涂黑。如需改动,用橡皮擦干净后,再选涂其他答案标号。回答非选择题时,将答案写在答题卡上。写在本试卷上无效。
3. 考试结束后,将本试卷和答题卡一并交回。

一、选择题:本题共 35 小题,每小题 4 分,共 140 分。在每小题给出的四个选项中,只有一项是符合题目要求的。

我国海岸线长达 1.8 万千米,是世界上极少数同时受热带台风风暴潮和温带风暴潮影响的国家之一,并且极端降雨和风暴潮复合灾害发生频率较高。图 1 示意 1979—2014 年我国沿海各潮位站雨潮复合灾害发生频次。据此完成 1~3 题。

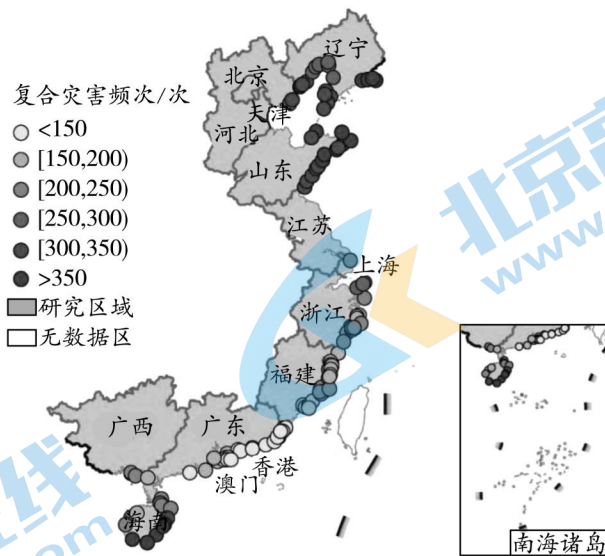


图 1

1. 我国雨潮复合灾害
 - A. 发生频次由北向南增加
 - B. 不会对广西造成影响
 - C. 发生频次由南向北增加
 - D. 发生频次中间低、南北高
2. 影响我国雨潮复合灾害空间分布的主要因素是
 - A. 年降水量
 - B. 台风发生频率
 - C. 风暴潮频次
 - D. 潮汐周期

座位号

考场号

考生号

姓名

班级

县(市、区)

装订线



3. 我国雨潮复合灾害造成的灾损

- A. 广东低于海南
- B. 与灾害出现频率呈正比
- C. 山东高于河北
- D. 与沿海省区面积呈正比

中南半岛是世界上稻米的主要产区之一,其中泰国香米知名度最高。图2为2001—2020年中南半岛主要稻米生产国稻米产量和单产年均变化统计图。据此完成4~6题。

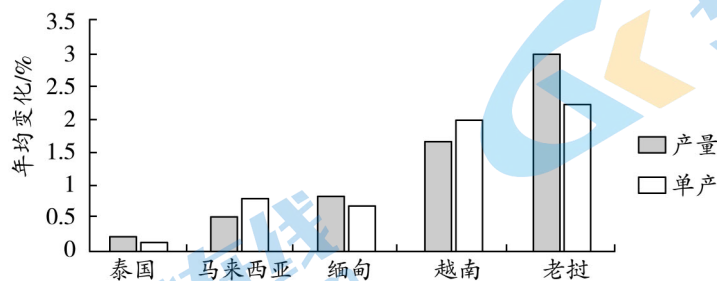


图2

4. 2001—2020年中南半岛主要稻米生产国中

- A. 泰国稻米单产最低
- B. 越南稻米种植面积缩小
- C. 老挝稻米总产量最高
- D. 缅甸稻米品质提高快

5. 中南半岛种植水稻的主要优势是

- A. 以平原为主,土壤较肥沃
- B. 全年高温多雨,气候适宜
- C. 迁入人口多,稻米需求多
- D. 劳动力充足,且经验丰富

6. 老挝水稻种植业的最优发展方向是

- A. 继续扩大水稻种植面积
- B. 树立优质稻米品牌
- C. 大量使用化肥提高单产
- D. 人工除虫提升品质

地质构造是地壳运动的“痕迹”,也是地貌的重要成因,图3为我国某地地质构造剖面示意图。据此完成7~9题。

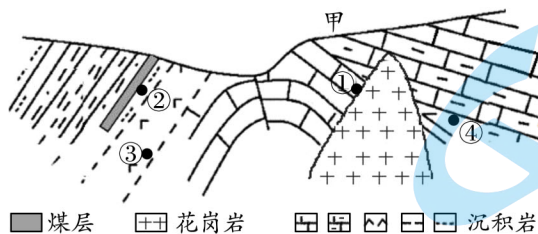


图3

7. 该地经历的褶皱次数至少为

- A. 1次
- B. 2次
- C. 3次
- D. 4次

8. 最有可能发现大理岩的地点是

- A. ①
- B. ②
- C. ③
- D. ④

9. 甲处没有发育煤层主要是由于

- A. 缺少煤层沉积环境
- B. 煤层形成过程中地壳下沉
- C. 未发生变质作用
- D. 人类早期过度开采

为了更好地应对气候变化、为全球碳减排做出更大贡献,我国力争在2030年前实现碳达峰,在2060年前实现碳中和。图4示意2010—2100年在“双碳”政策下我国燃油汽车和电动汽车能源使用量变化(含预测)。据此完成10~11题。

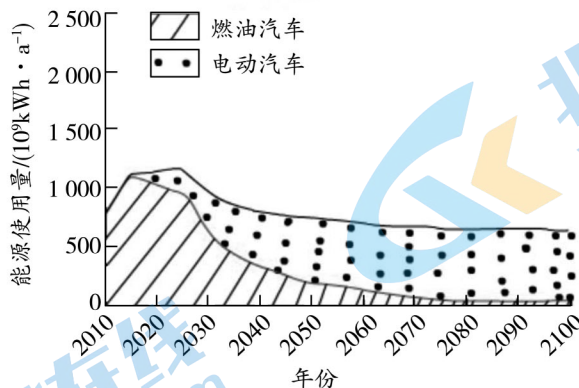


图4

10. 长期来看,我国大力发展电动汽车会

- A. 增加能源总使用量
- B. 促进能源利用结构多元化
- C. 优化汽车产业链
- D. 使燃油汽车质量下降

11. 随着未来电动汽车数量的增加,今后一段时间我国电力机构应

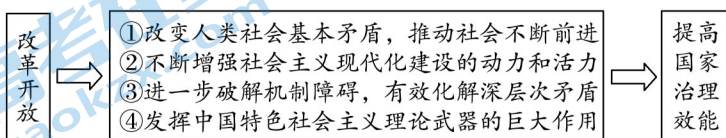
- A. 加大东部平原区火电和水电发电量
- B. 禁用煤电以保护生态环境
- C. 增强太阳辐射,大力发展光伏电站
- D. 大力实施电力跨区域调配

12. 十月革命的胜利,让李大钊备受鼓舞,“俄罗斯之革命是二十世纪初期之革命,是立于社会主义上之革命”“吾人对于俄罗斯今日之事变,惟有翘首以迎其世界的新文明之曙光,倾耳以迎其建于自由、人道上之新俄罗斯之消息,而求所以适应此世界的新潮流”。上述观点,说明他认识到

- ①这场革命对世界历史进程将产生划时代的影响
- ②走社会主义道路是当时中国社会的必然选择
- ③半殖民地半封建的中国走资本主义道路行不通
- ④中国进行社会主义革命、建设的道路是曲折的

- A. ①②
- B. ①③
- C. ②④
- D. ③④

13. 习近平总书记在党的二十大报告中指出,回望过去,我们依靠改革开放,在富起来、强起来的征程上迈出了决定性的步伐。眺望未来,我们必须深入推进改革创新,坚定不移扩大开放,着力破解深层次体制机制障碍,不断彰显中国特色社会主义制度优势,把我国制度优势更好转化为国家治理效能。下列选项能正确反映其内在联系的是



- A. ①③
- B. ①④
- C. ②③
- D. ②④

14. 2022年是国企改革三年行动的收官之年,同时也是深化国企改革新的起点。某市将在全市国资系统着力实施“五大工程”,即党建质量工程、改革攻坚工程、提质增效工程、布局优化工程、监管提升工程,促进国有企业更好发挥顶梁柱、压舱石、主力军作用。为此,该市国资系统要

- ①督促国企苦练内功,强化国企姓党为民的本色
- ②聚焦向管企业转变,不断增强国有资本控制力
- ③加大国企监管力度,以效益提升体现制度优越
- ④调整国企经营策略,在各行各业贡献国企力量

A. ①③ B. ①④ C. ②③ D. ②④

15. 某市 6 500 多名各级人大代表深入选区(选举单位),联系群众,倾听民声,通过“群众点题、政府解题、代表督办”的“你点我督”工作机制,助力解决了一批群众身边的烦心事,有力推进了文明城市创建工作。在上述活动中,人大代表

- ①在群众与政府之间发挥了桥梁和纽带的作用
- ②积极配合政府,共同履行社会公共服务职能
- ③坚持走群众路线,为人大决策提供信息支持
- ④聚焦民生关切,履职尽责维护人民群众利益

A. ①③ B. ①④ C. ②③ D. ②④

16. 从图 5 信息中,我们能够切实感受到

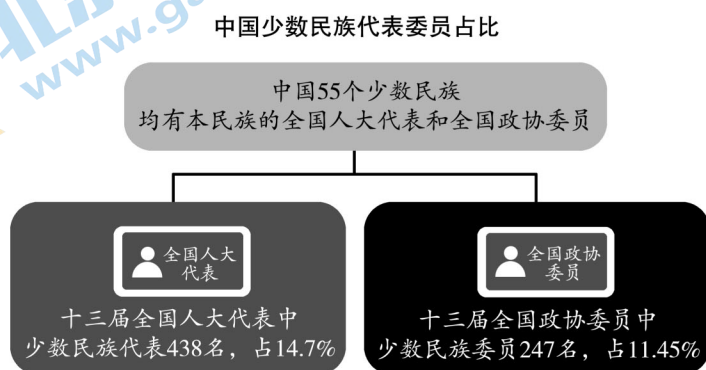


图 5

- ①少数民族的自治权得到充分保障
- ②历史遗留的各民族发展不平衡状况已消除
- ③中华人民共和国各民族一律平等
- ④我国社会主义民主是最广泛最真实的民主

A. ①② B. ①④ C. ②③ D. ③④

17. 2022 年 10 月 30 日,十三届全国人大常委会第三十七次会议表决通过黄河保护法,黄河流域生态保护和高质量发展将有法可依。黄河保护法坚持问题导向,紧紧抓住水沙关系调节这个“牛鼻子”,针对黄河流域各种特殊问题,对特定区域、特定问题规定特别制度措施。材料蕴含的哲理是

- ①矛盾主次方面在一定条件下能够相互转化
- ②事物的性质主要是由矛盾的主要方面决定
- ③认识复杂事物的发展要着重把握主要矛盾
- ④具体问题具体分析是正确解决矛盾的关键

A. ①② B. ①③ C. ②④ D. ③④

18. 近日,中国科学院地球化学研究所科研团队针对嫦娥五号月壤样品开展了研究,通过红外光谱和纳米离子探针分析,发现嫦娥五号矿物表层中存在大量的太阳风成因水,根据估算,太阳风质子注入为嫦娥五号月壤贡献的水含量至少为 170ppm(浓度单位),相当于每吨月壤中至少含有 170 克的水。这一发现



座位号

考场号

考生号

姓名

班级

县(市、区)

线
订
装

- ①进一步佐证了世界的客观物质性
- ②表明人们创造物质以物质的客观实在性为前提
- ③体现了意识活动具有直接现实性
- ④表明只有尚未被认识之物,没有不可认识之物

A. ①② B. ②③ C. ①④ D. ③④

19. 2022年11月,出席二十国集团会议的习近平主席同美国总统拜登就中美关系中的战略性问题以及国际重大问题坦诚深入地交换了看法。国际舆论认为,中美元首探讨新时期两国正确相处之道,有利于中美关系重回健康稳定发展轨道,有利于中美协调合作,共同应对全球性挑战。中美两国的正确相处之道应该是

- ①遵循联合国宪章精神,恪守国际法准则
- ②坚持相互尊重、和平共处、合作共赢
- ③建立以两国共同利益为基础的国际新秩序
- ④加强双边合作共同应对其他国家挑战

A. ①② B. ①③ C. ②④ D. ③④

20. 据国际金融协会统计,自2022年3月份美联储开启新一轮加息周期以来,新兴市场国家已经连续5个月遭受投资组合资本流出,创2005年以来净流出时间最长的纪录。这加大了更多亚洲国家尤其是出口导向型经济体或低收入国家的国际收支平衡难度和债务成本、债务风险。由此可见

- ①发达经济体是经济全球化深入发展的决定力量
- ②实施紧缩性货币政策是产生全球性风险的根本原因
- ③经济全球化深入发展使各国经济联系日益紧密
- ④发展中国家在经济全球化进程中要积极应对风险挑战

A. ①② B. ①④ C. ②③ D. ③④

21. 2022年上半年,全国专利商标质押融资额达1 626.5亿元,同比增长51.5%。其中,1 000万元以下的普惠项目达7 345项,同比增长112%。截至6月底,银行业金融机构知识产权质押贷款余额1 246.37亿元。对此,下列说法正确的是

- ①债务人将专利商标或知识产权作为债权的担保
- ②债务人不履行债务时债权人可拍卖抵押品受偿
- ③专利商标或知识产权能进行质押利于创新发展
- ④质押体现了债务人或第三人不转移财产的占有

A. ①② B. ①③ C. ②④ D. ③④

22. 给一个概念下定义,就是用简明的语句揭示概念所反映的客观事物的本质属性,在这一过程中应该遵循必要的逻辑规则。下列定义有逻辑错误的是

- A. 无限不循环的小数叫无理数
- B. 思维是对事物本质及其规律的反映
- C. 商品是用于交换的劳动产品
- D. 乐观主义就是用乐观主义对待生活

23. 专家提醒,针对奥密克戎感染的不同症状,选择合适药品,不要重复用药。比如,如果买到的是复方制剂,或含有西药成分的中成药,务必仔细阅读说明书,可能具有相同的药物成分,要防止同类药物重复、过量服用。这要求我们

- ①在抗击病毒的实践中遵循适度原则
- ②在思考和处理问题时把握好“分寸”
- ③凡事都应采取折中主义的思维方式
- ④把事物的变化都控制在度的范围内

A. ①② B. ①③ C. ②④ D. ③④

24.

表 1

文献	记述
《吴越春秋》	“子胥到昭关,关吏欲执之。伍员因诈曰:‘上所以索我者,美珠也。今我已亡矣,将去取之。’关吏因舍之。”
《墨子·号令》	“诸城门若亭,谨候视往来行者符。符传疑,若无符,皆诣县廷言,请问其所使。其有符传者,善舍官府。……吏卒民无符节,而擅自入里巷官府,吏、三老、守闾者失苛止,皆止。”

表 1 是有关春秋战国时期社会状况的记述。这些记述反映出,当时

- A. 社会秩序极不稳定
B. 重视道路交通管理
C. 区域间的联系缺乏
D. 官员腐败现象严重

25. 图 6 是经不完全统计整理的两汉士人家庭官职代间传承的情况。据此可推知,两汉时期

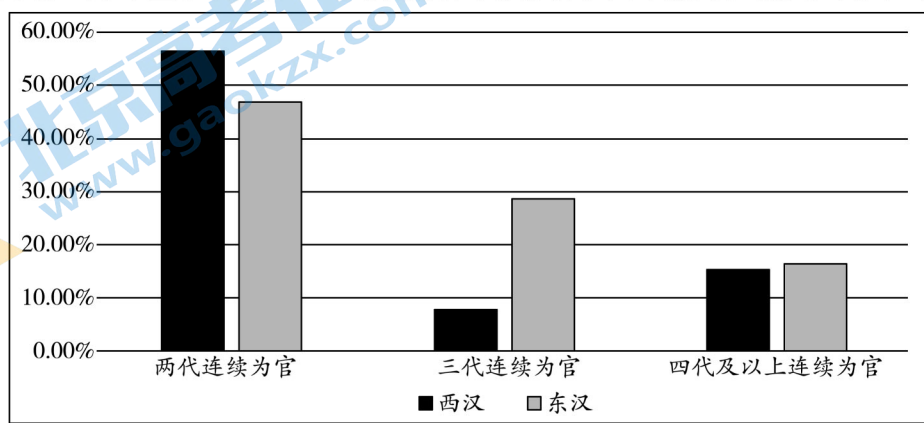


图 6

- A. 职官阶层属性划分明显
B. 官职世袭制开始被打破
C. 家世背景影响社会流动
D. 官员执政能力不断降低

26. 汉代,“书皆竹简,得之甚难”,以致“若不从师,无从写录”。五代以后,“学者无笔札之劳,(即可)获睹古人全书”,不仅“购买极易”,且可通过租借方式获得,“无汉以前耳受之艰,无唐以前手抄之勤”。这反映出

- A. 印刷术拓展了知识流传方式
B. 儒家思想传播渠道得以扩大
C. 书籍商业化推动了文化发展
D. 文化的大众化倾向不断增强

27. 据记载,乾隆年间,“(河北)顺天、河间、天津、保定等处淀地居民,近在水乡,似无所利。然可种芦苇、藕菱、稗蒲之属。数者之中,苇利最大”,“织苇之利,通行数省。男人日可获七八分之值,女人可获四五分之值。而河工所用之苇扫之类,亦甚多,利与旱地侔”。据此可知,当时

- A. 北方农业生产的环境不断恶化
B. 耕织结合的小农经济出现分离
C. 家庭手工业出现雇佣劳动关系
D. 家庭手工业的商品性因素增长

28. 魏源在《海国图志》中提到,“倘(洋商)有泄外夷之短者,该夷公司必知。故洋商遇地方官询以夷事,皆谬为不知,而中国用人行政及大吏一举一动,彼夷翻无不周知。……公司一散,海疆可保永绥。善治者必先设法解散,而后易于制驭”,“探阅(澳门)新闻纸,亦取夷要策”。这说明,魏源

- A. 认识到海防的战略地位重要
B. 认为舆论是抵抗外侵的良策
C. 宣扬国际关系中的平等原则
D. 突破了传统保守的对外理念

29. 1881 年前的 10 年中,我国进口货中的“火柴、针及窗玻璃销售续增……国内各地,特别繁荣,各货销售,愈为畅旺。而煤油一项,进口激增”。1890 年以后,棉纱、机器、铁路材料等生产资料类的进口也日见增多。这

- A. 加速了中国经济市场化的进程
B. 反映出国人对西方文明的崇尚
C. 推动了中国民族工业快速发展
D. 促使新式生产方式在中国产生

30. 1948 年 11 月,周恩来指出:对美英法等国的领事馆“应采取不承认而只承认为普通侨民的方针”。1949 年 1 月,毛泽东提出:“我们不要忙于求得帝国主义国家的承认”,“将来我们要做生意,才发生承认与否的问题。我们也不忙于承认他们。”这反映出我国对外政策的

- A. 保守性
B. 国际性
C. 延续性
D. 灵活性

31. 图 7 是 1978—2013 年我国工业增加值的增长率变化情况。对图中现象认识正确的是

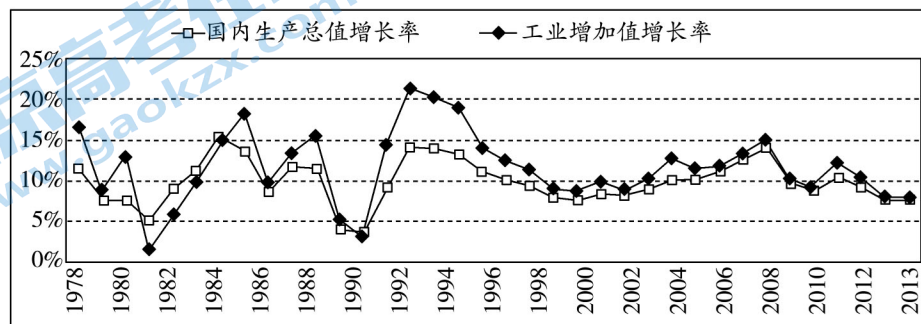


图 7

- A. 改革重点由农村转至城市
B. 工业对经济的贡献力有限
C. 工业经济呈现趋稳的态势
D. 体制变革造成经济的动荡

32. 据调查,1086 年英国境内全国地租总收入为 73 000 英镑,其中约有 1/2 归属于 170 家诺曼底贵族。王室占有全国土地的 1/7,国王的直接封臣(总佃户)有 1 400 人,其中 180 人是真正的大封建主,他们占有的土地占全国土地的 50%,大封建主下属的封臣有 7 900 人。这可用于说明英国

- A. 庄园制度已出现瓦解的趋势
B. 王权有实现集权的物质基础
C. 各级封臣财产由国王所支配
D. 借助契约维系封君封臣关系

33. 马丁·路德国家学说的中心内容是“君权神授”说,认为君主权力是神授的,教皇权力是人为的,是不合法的,神授君权有改革教会、钳制教皇的义务。这反映了马丁·路德

- A. 摆脱宗教信仰的决心
B. 强调王权与教权平等
C. 浓厚的民族主义情感
D. 对中国传统思想借鉴

34. 1923 年,列宁在《论合作社》中指出:“要善于把我们已经充分表现出来而且取得完全成功的革命气势、革命热情,同做一个有见识的和能写会算的商人的本领结合起来。这一点是俄国人,或者直接了当说是农民应该牢牢记住的。”这表明,列宁

- A. 呼吁人民须保持革命斗志
B. 重视提高农业劳动者文化素质
C. 认识到工农联盟的重要性
D. 对新经济政策作出了适当调整

35. 1979 年,欧共体根据关贸总协定(GATT)条款,针对日本的贸易壁垒向 GATT 提出申诉。由于日本很快宣布提高“自愿出口限额”,更重要的是该申诉得不到美国的支持,最后不了了之。这可用于说明

- A. 两极格局下的国际态势
B. 日本因美国的扶植而崛起
C. 资本主义阵营开始分化
D. 日本发展缺乏内部驱动力

二、非选择题:本题共9小题,共160分。

(说明:地理部分2题,共56分;思想政治部分4题,共52分;历史部分3题,共52分)

36. 阅读图文材料,完成下列要求。(30分)

近年来,“一带一路”倡议和中非合作的深化促使中国企业的海外投资行为及其社会影响逐渐成为国际关注焦点。津巴布韦是非洲南部的内陆高原国,金、铬、铁、铜和钻石等矿藏以量多质优居世界前列,与中国在经贸往来、基础设施建设和技术支持方面存在长期合作。21世纪初,当西方国家对津巴布韦实施经济制裁时,津巴布韦提出了“向东看”的政策,加强与中国等亚洲国家之间的合作,中国逐渐成为该国最大的投资国之一,紧接着大量中国移民进入津巴布韦投资设厂,以中小型企业为主。图8为津巴布韦区域图。

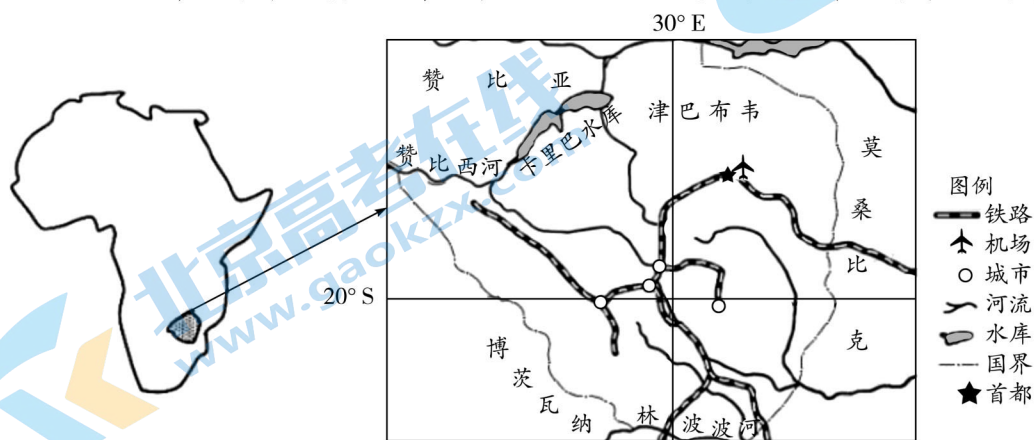


图8

(1)说明地形对津巴布韦河流和气候的影响。(6分)

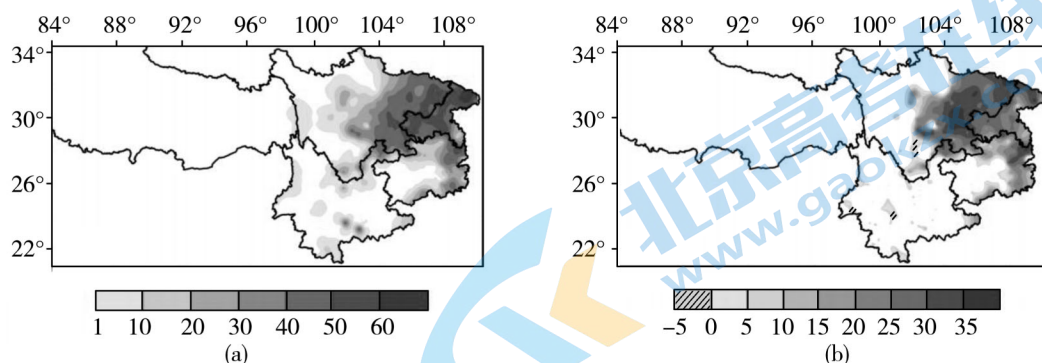
(2)指出津巴布韦吸引我国企业投资的优势。(8分)

(3)简述国外企业进入后促进津巴布韦社会经济发展的主要措施。(8分)

(4)我国有些企业分析:目前到津巴布韦投资还面临很多困难,应暂缓去投资。请说明其理由。(8分)

37. 阅读图文材料,完成下列要求。(26分)

在全球气候变暖背景下,我国西南地区呈现出高温、干旱事件增多的趋势。2022年夏季,西南地区平均气温历史同期最高,降水量历史同期最少,高温日数历史同期最多,极端最高气温历史同期最高,此次极端、持续的复合型高温干旱事件对当地生产、生活产生了严重的影响。专家分析此次西南地区的极端高温干旱天气与副热带高压、水循环密切相关。图9示意2022年夏季我国西南地区高温日数(a)及其距平(b)的空间分布(单位:天)。



注：距平是某一系列数值中的某一个数值与平均值的差，分正距平和负距平。

图9

- (1)描述2022年我国西南地区极端高温天气的空间分布特征。(6分)
- (2)推测2022年我国西南地区极端高温干旱天气发生的原因。(4分)
- (3)简述2022年我国西南地区极端高温干旱天气给当地生产和生活带来的不利影响。(8分)
- (4)为应对极端高温干旱天气,简述我国西南地区在农业生产过程中可采取的措施。(8分)

38. 阅读材料,完成下列要求。(10分)

农业展望是研判未来一段时期农产品市场供需形势变化,并通过释放市场信号引导农业生产、消费和贸易活动的重要调控手段。开展农业预警展望活动,是现代化市场经济的重要标志。先进的农业展望制度具有科学的农业统计调查制度、专业的农业信息分析制度、统一的农业信息发布制度,以及社会化的农业信息服务制度。

从2014年起,中国已连续举办9届中国农业展望大会,每年发布《中国农业展望报告》,其引导市场、指导生产、服务决策作用开始显现。中国农业展望大会制度的创立,实现了中国农产品预测信息由美国主导到自主发布的历史性转变。针对中国小农户、大市场的国情农情,打造中国特色农业展望制度是我国现代市场体系建设的基础工程,也是实现农业现代化的必由之路。

结合材料并运用《经济与社会》《当代国际政治与经济》的知识,说明打造中国特色农业展望制度的意义。

39. 阅读材料,完成下列要求。(12分)

进入常态化疫情防控以来,中央多次强调,要杜绝防疫过程中的“层层加码”“一刀切”,但到了具体实践中,有些地方把“动态”背后科学精准的要求与“清零”目标割裂开来,层层传导之下,看似“严格落实”的“一刀切”,实则罔顾实际;看似“主动作为”的“层层加码”,实则怕担责任。既没有把中央的政策吃透吃好,也没有把群众的切身利益放在心上,耽误的是疫情防控大局,消耗的是民众信任,损害的是政府公信力。

当前,我国仍然面临境外疫情输入和本土疫情传播扩散的风险,防控任务重要紧迫。把一系列政策要求落到实处,关键在于拿出切实行动。各地在出台具体措施前要多了解基层一线的实际状况,防止出现“花拳绣腿”的问题;在落实属地责任、依法依规严肃追责时也要明确,过度防疫造成不必要社会代价与疏于防控造成疫情蔓延同等问责。结合材料,运用《政治与法治》知识,说明政府在疫情防控中如何履职维护公信力。

40. 阅读材料,完成下列要求。(18分)

一百年来,我们党弘扬“坚持真理、坚守理想,践行初心、担当使命,不怕牺牲、英勇斗争,对党忠诚、不负人民”的伟大建党精神,这是中国共产党的精神之源,构建起中国共产党人的精神谱系,锤炼出鲜明的政治品格。

一百年来,中国共产党弘扬伟大建党精神,形成了井冈山精神、长征精神、抗美援朝精神、抗震救灾精神、抗疫精神等伟大精神,构筑起了中国共产党人的精神谱系。这些宝贵精神财富跨越时空、历久弥新,集中体现了党的坚定信念、根本宗旨、优良作风,凝聚着中国共产党人艰苦奋斗、牺牲奉献、开拓进取的伟大品格,为我们立党兴党强党提供了丰厚滋养。

一百年来,我们取得的一切成就,是中国共产党人、中国人民、中华民族弘扬伟大建党精神,发扬斗争精神团结奋斗的结果。面对中华民族伟大复兴战略全局和世界百年未有之大变局,面对严峻复杂的国际形势和接踵而至的巨大风险挑战,唯有精神上站得住、站得稳,我们才能在历史洪流中屹立不倒、挺立潮头。

党的二十大闭幕不到一周,习近平总书记在瞻仰延安革命纪念地时强调,要弘扬伟大建党精神,弘扬延安精神,坚定历史自信,增强历史主动,发扬斗争精神,为实现党的二十大提出的目标任务而团结奋斗。

(1)伟大的建党精神,是中国共产党的精神之源。结合材料运用“弘扬中华民族精神”知识谈谈你的理解。(8分)

(2)结合材料,运用“实现人生的价值”相关知识说明弘扬伟大建党精神对实现党的二十大提出的目标任务的作用。(10分)

41. 阅读材料,完成下列要求。(12分)

2021年7月,营销专业毕业的张某通过某招聘网站找到了一份销售工作,工作单位是一家保健器材经销店。当初跟老板谈的工资标准为试用期底薪是2500元/月,转正后底薪是2800元/月,外加5%的提成,并未签订书面劳动合同。

截至目前,一年过去了,老板只给张某按月发放了底薪,提成的事一直没有兑现。张某多次提及,但老板以受疫情影响公司经营状况不好为由推脱、敷衍,并在私下说:能有碗饭吃就不错了,还要什么提成……

(1)张某与保健器材经销店老板的口头约定能否构成合同?为什么?(4分)

(2)运用“做个明白的劳动者”知识,为张某如何维权提几点建议。(8分)

42. 阅读材料,完成下列要求。(25分)

材料一 商周时期,王者立四时之序而化天下。《礼记·月令》记载了周天子一年四季的礼仪活动,当时许多风俗由专职官员负责。秦汉以后的封建统治者更把传统节日变成了转移阶级矛盾视线的手段。中国的节日基本上是以二十四节气为线索进行。春节雏形是庆丰收;“清明前后,种瓜种豆”;七夕节反映了中国男耕女织的小农家庭模式。除夕全家守岁,清明祭祖扫墓,端午系五色丝、涂雄黄,七夕看牛女相会,中秋团圆,重阳把出嫁的女儿接回。在现代社会,传统节日仍以家庭为组织进行,新节日则以单位和学校为主组织进行。

——摘编自秦永洲著《中国社会风俗史》

材料二 西方国家,虽有类似中国全家团聚的重大传统节日如圣诞节、新年、感恩节等,同时“‘狂欢’‘新奇’‘神圣’‘浪漫’等是其节日精神的主要内核”,注重“情感宣泄”,有“较强的娱乐性”。如狂欢节是基督教“谢肉节”的世俗化称呼;情人节是纪念名叫瓦伦丁的基督教殉难者;万圣节是为了纪念教会所有圣人;圣诞节是基督教为了纪念耶稣诞生。随着改革开放步伐加快,中国人欢庆并无中国文化渊源的圣诞节、情人节、父亲节、母亲节等西方节日,同时中国传统节日如春节、端午、中秋等也被越来越多的外国人接受。2007年春节前夕,法国前总统希拉克在贺词中说:“2月18日,我们将欢度中国新年。”

——摘编自唐小晴《中西方传统节日文化比较分析》等

(1)根据材料一、二并结合所学知识,概括中国与西方传统节日的差异,并分析西方传统节日文化特色形成的原因。(13分)

(2)根据材料二并结合所学知识,说明现代中国节日文化出现的新变化及其意义。(12分)

43. 阅读材料,完成下列要求。(12分)

材料

表2 关于1919—1949年中国历史的阶段的四种划分

第一种	新民主主义革命的开始和第一次国内革命战争(1919—1927年);第二次国内革命战争(1927—1937年);抗日战争(1937—1945年);第三次国内革命战争(1945—1949年)
第二种	1919年5月至1927年7月;1927年8月至1931年9月;1931年9月至1945年8月;1945年9月至1949年9月
第三种	1919年至1923年;1924年至1927年;1927年至1937年;1937年至1945年;1945年至1949年 全站免费,更多学习资源关注公众号拾穗者的杂货铺x思维方糖研究所
第四种	1919年至1923年;1924年至1927年;1927年至1931年;1931年至1937年;1937年至1945年;1945年至1949年

——摘编自白寿彝主编《中国通史》

就上述阶段划分,提出你的认识,并结合相关史实进行阐释。(要求:“认识”可以是对材料的认识或是提出新的认识,“阐释”须史论结合,论证充分,逻辑严密。)

44. 阅读材料,完成下列要求。(15分)

材料

地图上的世界文明

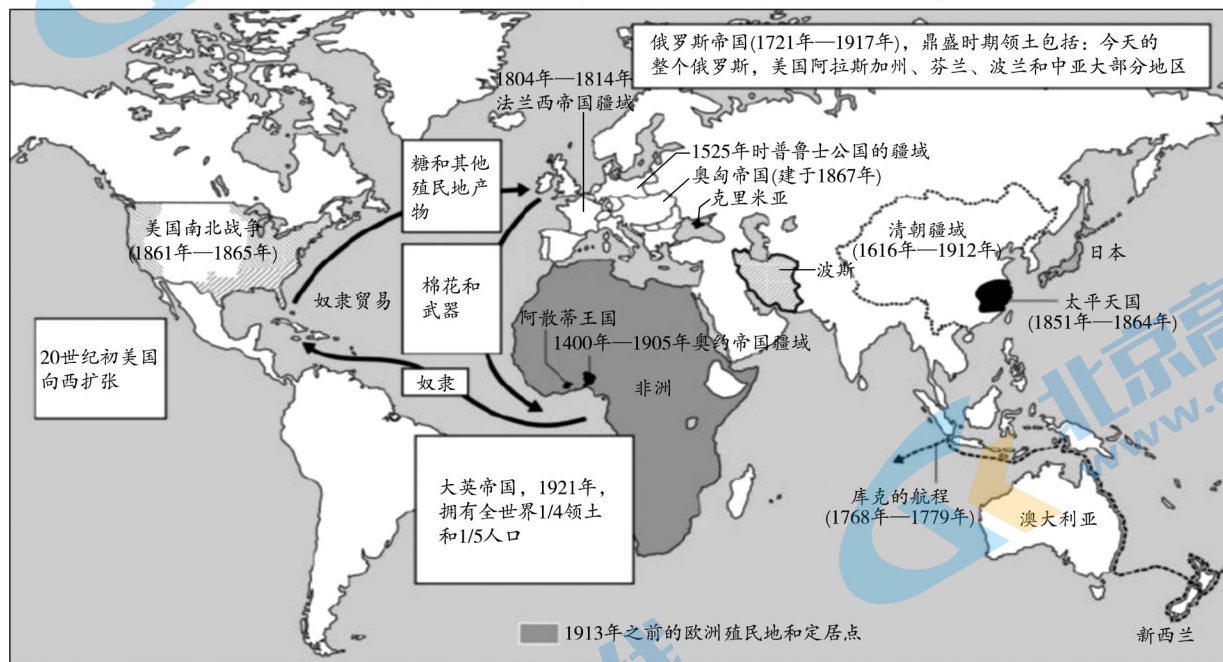
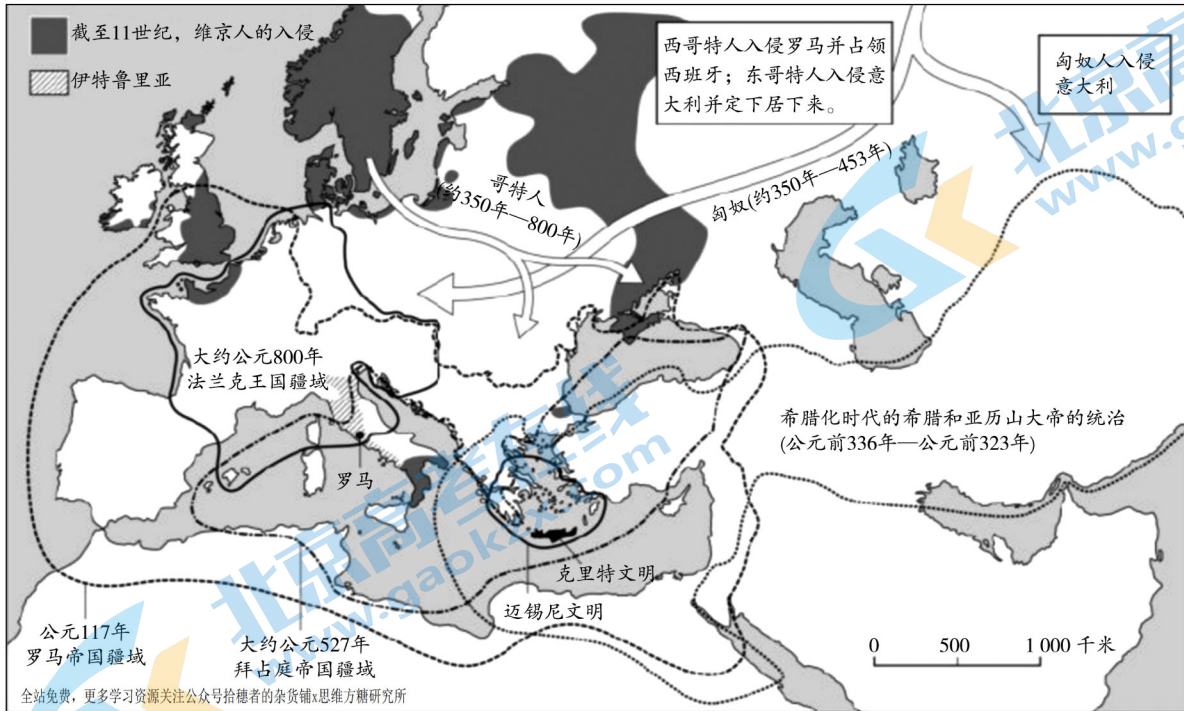


图11 第一次世界大战前的领土疆域情况(1400—1912年)

——摘编自[英]艾玛·玛丽奥特著《世界文明5000年:一幅包罗万象的世界文明索引图》

(1) 概括图10、图11的编绘者力图告诉我们些什么。(10分)

(2) 如果让你绘制一幅二战结束后的世界文明发展的地图,说说你的设计并说明理由。(5分)

关于我们

北京高考在线创办于 2014 年，隶属于北京太星网络科技有限公司，是北京地区极具影响力的中学升学服务平台。主营业务涵盖：北京新高考、高中生涯规划、志愿填报、强基计划、综合评价招生和学科竞赛等。

北京高考在线旗下拥有网站门户、微信公众平台等全媒体矩阵生态平台。平台活跃用户 40W+，网站年度流量数千万量级。用户群体立足于北京，辐射全国 31 省市。

北京高考在线平台一直秉承 “精益求精、专业严谨” 的建设理念，不断探索 “K12 教育+互联网+大数据” 的运营模式，尝试基于大数据理论为广大中学和家长提供新鲜的高考资讯、专业的高考政策解读、科学的升学规划等，为广大高校、中学和教科研单位提供 “衔接和桥梁纽带” 作用。

平台自创办以来，为众多重点大学发现和推荐优秀生源，和北京近百所中学达成合作关系，累计举办线上线下升学公益讲座数百场，帮助数十万考生顺利通过考入理想大学，在家长、考生、中学和社会各界具有广泛的口碑影响力

未来，北京高考在线平台将立足于北京新高考改革，基于对北京高考政策研究及北京高校资源优势，更好的服务全国高中家长和学生。



微信搜一搜

北京高考资讯